

長いものの長さ

2

長さ

勉強した日 月 日  
名前


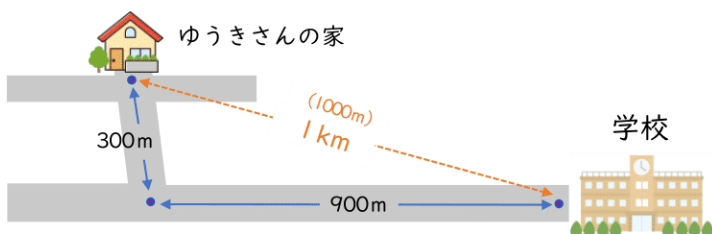


学習目安時間 20分

長い長さの単位を使いましょう。

きよりと道のり

まっすぐにはかった長さをきより  
道にそってはかった長さを、道のりといいます。  
1000mを1キロメートルといい、1kmと書きます。



長い道のりなどを表すときには、kmの単位を使います。

1 上の地図を見て、ゆうきさんの家から学校までの道のりは何mですか。□にあてはまる数を書きましょう。

道のりは道にそってはかるから、

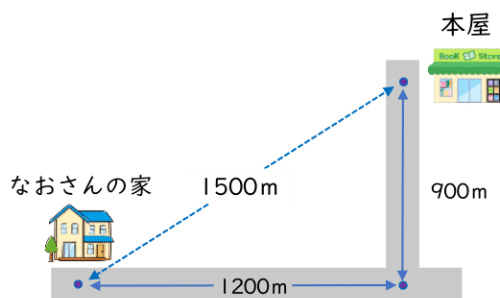
$300 + \square = \square$  で、 $\square$  mです。

1000mは1kmだから、 $\square$  km  $\square$  m

2 右の地図を見て答えましょう。

1 なおさんの家から本屋までの道のりときよりは、何km何mですか。

道のり ( )  
きより ( )



2 なおさんの家から本屋までのきよりと道のりのちがいは、何mですか。 ( )

