

長いものの長さ

1

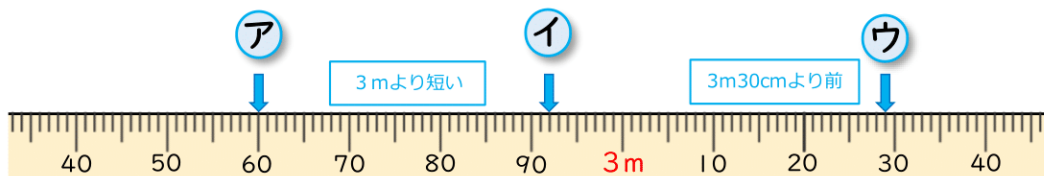
長さ

勉強した日 月 日  
名前



学習目安時間 20分

長いものの長さを、はかりましょう。



ア m cm

イ m cm

ウ m cm



このまきじゃくのいちばん小さいめもりは1cmです。どこが何mのめもりかをしっかり見ましょう。

1 次の長さは、まきじゃくともものさしどちらではかればいいですか。記号で答えましょう。

あ <sup>こくばん</sup> <sup>よこ</sup> 黒板の横の長さ

い 本のあつさ

う 木のまわりの長さ

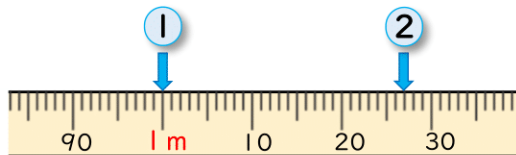
え えんぴつの長さ

まきじゃく ( ) ものさし ( )

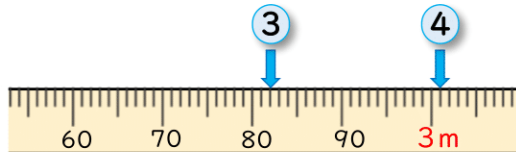
まきじゃくは長いものやまるいものをはかるときに使います。



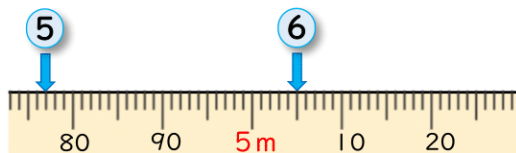
2 下のまきじゃく ① ~ ⑥ のめもりは、それぞれ何m何cmを表していますか。



① ( ) ② ( )



③ ( ) ④ ( )



⑤ ( ) ⑥ ( )