

分数

6

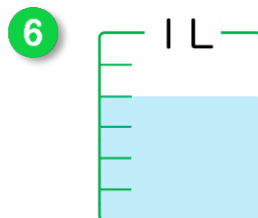
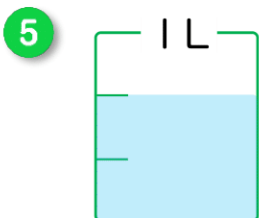
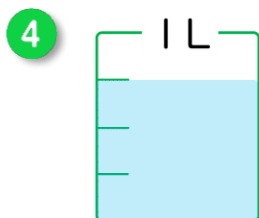
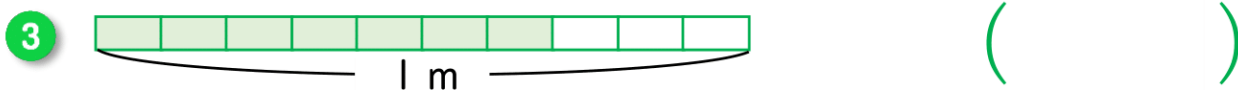
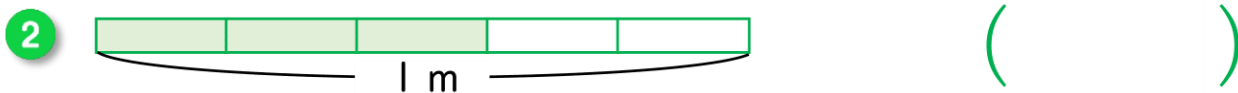
いろいろな分数
はってん

べんきょうした日 月 日
名前



学習目安時間 20分

1 色をぬったところの長さや かさを，分数で書きましょう。



⑤と⑥は同じ
かさだね。



2 □にあてはまる数を 書きましょう。

1 $\frac{1}{3}$ mの 2つ分は $\frac{\square}{\square}$ m

2 $\frac{1}{4}$ mの 3つ分は $\frac{\square}{\square}$ m

3 $\frac{1}{3}$ Lの □つ分は $\frac{2}{3}$ L

4 $\frac{1}{4}$ Lの □つ分は 1 L

3 □にあてはまる >, <, =を 書きましょう。

1 $\frac{1}{4}$ □ $\frac{3}{4}$

2 $\frac{2}{5}$ □ $\frac{1}{5}$

3 $\frac{1}{3}$ □ $\frac{1}{4}$

4 $\frac{1}{2}$ □ $\frac{2}{4}$

5 $\frac{1}{4}$ □ $\frac{2}{3}$

6 $\frac{2}{2}$ □ 1