

分数

5

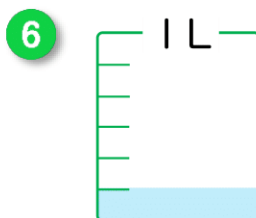
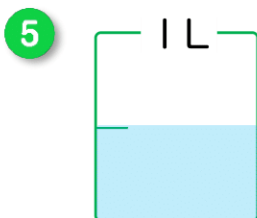
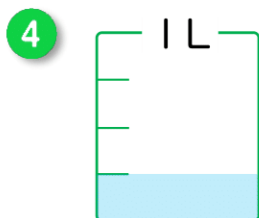
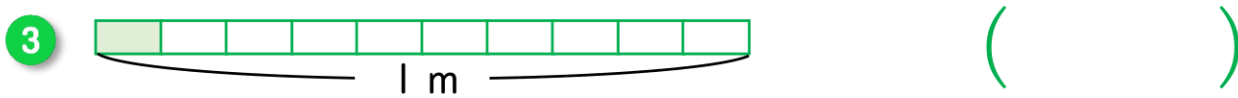
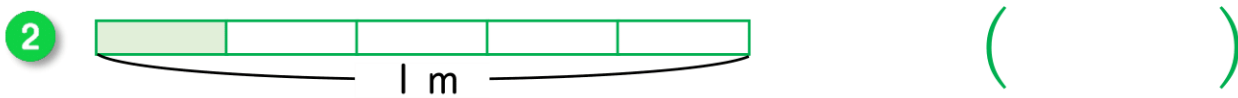
いろいろな分数

べんきょうした日 月 日  
名前



学習目安時間 20分

1 色をぬったところの長さや かさを、分数で書きましょう。

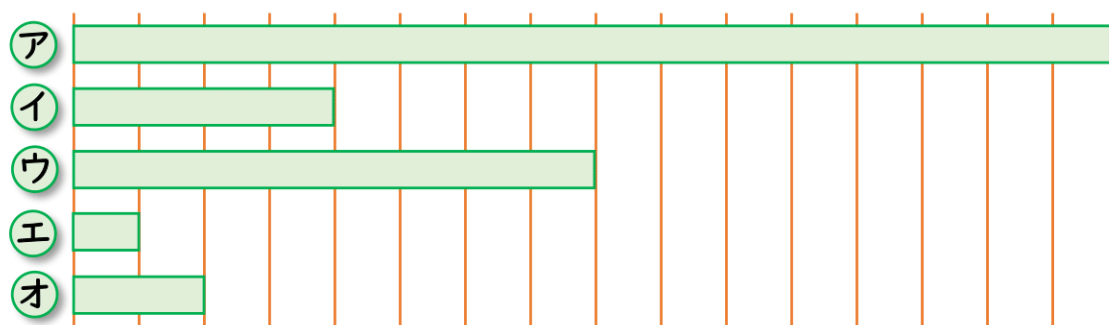


たんいも  
書きましょう。



2 つぎの もんだいに 答えましょう。

1 イ, ウ, エ, オ, の テープの長さは, アの テープの長さの 何分の一ですか。



イ ( ) ウ ( ) エ ( ) オ ( )

2 ウの長さの  $\frac{1}{2}$  になっているのは どれですか。 ( )

3 2倍すると オの長さになるのは どれですか。 ( )