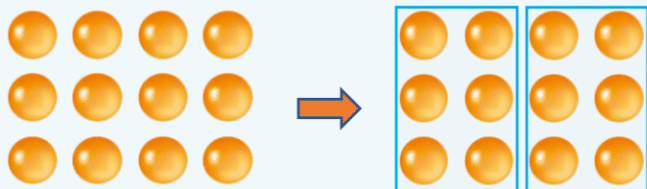


べんきょうした日 月 日
名前



学習目安時間 15分

同じ数に 分けてみましょう。

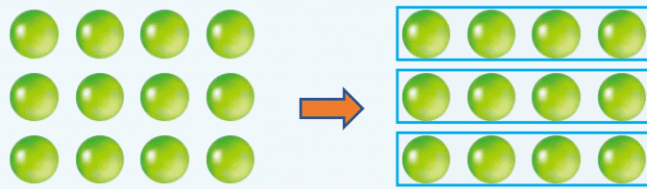


2人に分けると、1人分は

この $\frac{1}{2}$ になり、

1人分は こになります。

6この 2 倍は、12こ
になります。



3人に分けると、1人分は

この になり、


1人分は こになります。

4この 倍は、12こ
になります。


1 24この いちごがあります。これを1人分が同じになるように 分けてみましょう。

せん線をひいて 分けてみよう

1 2人に分けると、1人分は何こになりますか。 ()



2 3人に分けると、1人分は何こになりますか。 ()



3 4人に分けると、1人分は何こになりますか。 ()

