

分数

べんきょうした日 月 日  
名前

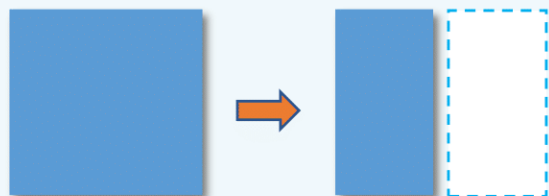


学習目安時間 15分

1

分けた大きさ

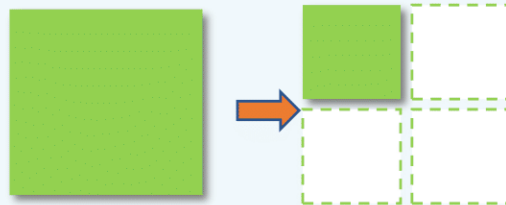
同じ大きさに 分けてみましょう。



同じ大きさに 2つに分けた  
にぶんのいち

1つ分を、

といい、  と書きます。



同じ大きさに 4つに分けた  
よんぶんのいち

1つ分を、


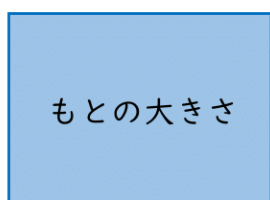
といい、  と書きます。

$\frac{1}{2}$  や  $\frac{1}{4}$  のように あらわした数を  ぶんすう といいます。




同じ大きさに 分けることを 等分 とうぶん というよ。  
分けても 同じ大きさで なければ 等分ではないよ。

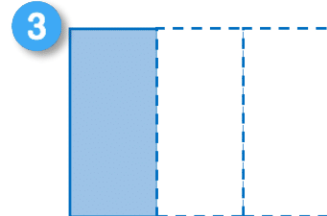
1 色をぬったところは もとの大きさの 何分の一ですか。  
分数で 答えましょう。



( )



( )



( )

2 アは 1本の テープの長さの 何分の一ですか。  
分数で 答えましょう。



( )