

べんきょうした日 月 日
名前

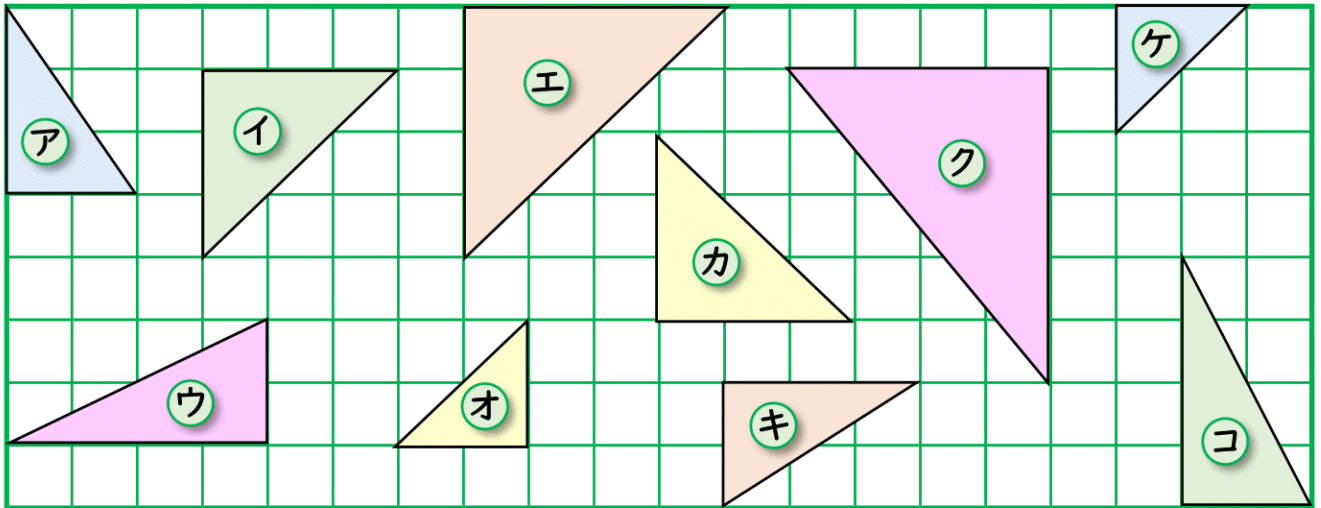


学習目安時間 20分

6

三角形と四角形

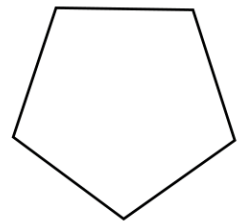
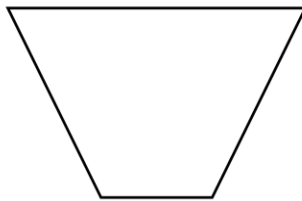
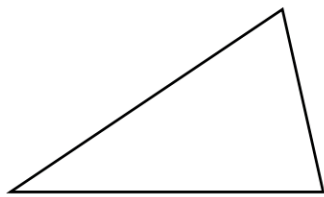
1 くみあわせると 長方形や正方形になるものを えらびましょう。



- 1 長方形 (と) (と)
- 2 正方形 (と) (と)

2 直線を1本かいて、つぎの形を作りましょう。

- 1 三角形と四角形
- 2 四角形と直角三角形
- 3 2つの四角形



3 つぎの形の まわりの長さは、何cmですか。

- 1 1つの辺が 4cmの 正方形。 ()
- 2 たて 3cm よこ 2cmの 長方形。 ()
- 3 ①を 2こ ならべてできる 長方形。 ()
- 4 ②を 6こ ならべてできる 正方形。 ()

