

べんきょうした日 月 日
名前



学習目安時間 20分

5

三角形と四角形

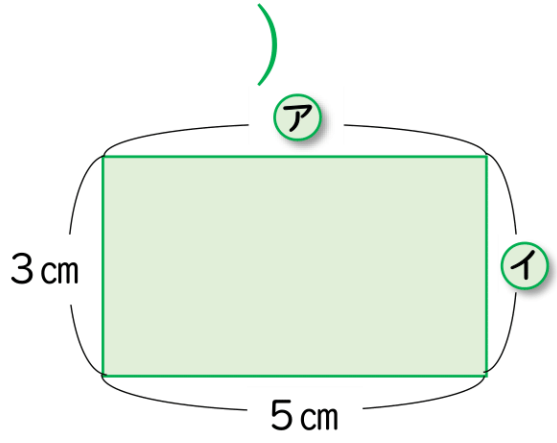
1 右の図形をみて もんだいに 答えましょう。

1 図の形を なんといいますか。 ()

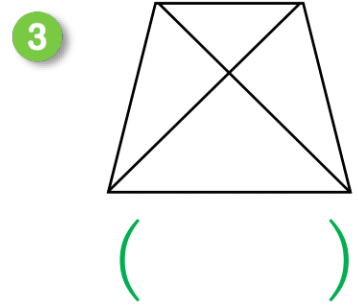
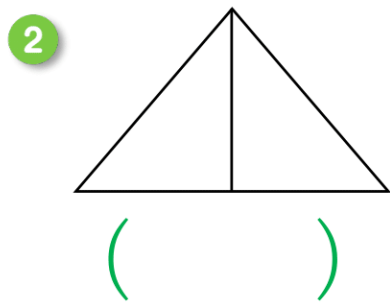
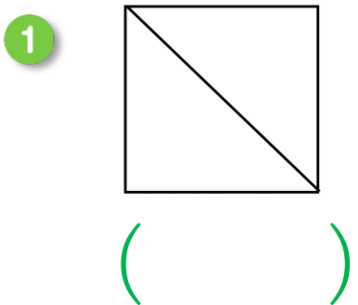
2 アと イの長さを もとめましょう。

ア () イ ()

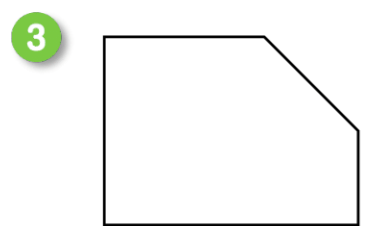
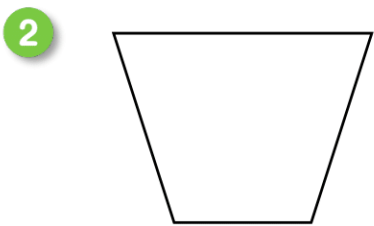
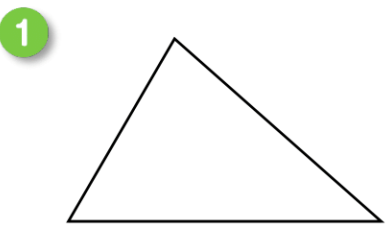
3 直線を1本ひいて、2つの直角三角形に分けましょう。また、その2つの直角に○をつけましょう。



2 つぎの図には、三角形が 何こありますか。



3 つぎの形に 直線を1本かいて、三角形と四角形に分けましょう。



4 つぎの正方形には、直角三角形が 何こありますか。

