

べんきょうした日 月 日
名前

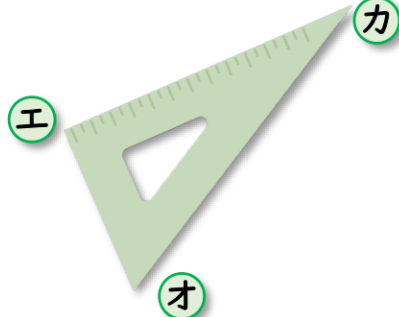
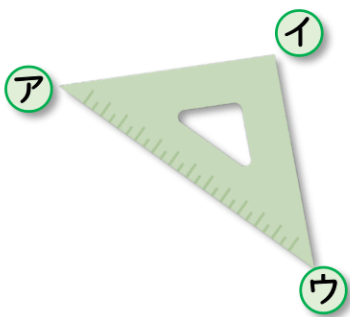


学習目安時間 20分

4

三角形と四角形


1 三角じょうぎの 直角のかどは どれと どれですか。




()
()

2 ^{へん}辺をかきたして、つぎの形を かきましょう。

1 直角三角形



2 長方形と正方形



3 つぎの形を、^{ほう}が^しん紙に かきましょう。

1 たて 4cm, よこ 2cmの 長方形。

2 1つの辺の長さが 3cmの 正方形。

3 直角になる 2つの辺の長さが 3cmと 4cmの 直角三角形。

