

1

三角形と四角形

べんきょうした日 月 日
名前



学習目安時間 15分

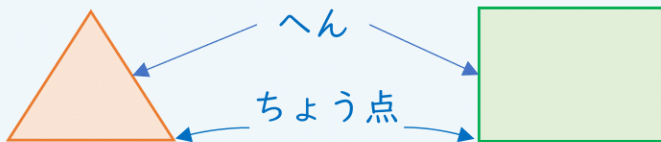
さんかくけい し かくけい
三角形と四角形を考えよう。

3 本の 直線^{ちよくせん}で かこまれた 形^{かたち}を

4 本の 直線^{ちよくせん}で かこまれた 形^{かたち}を

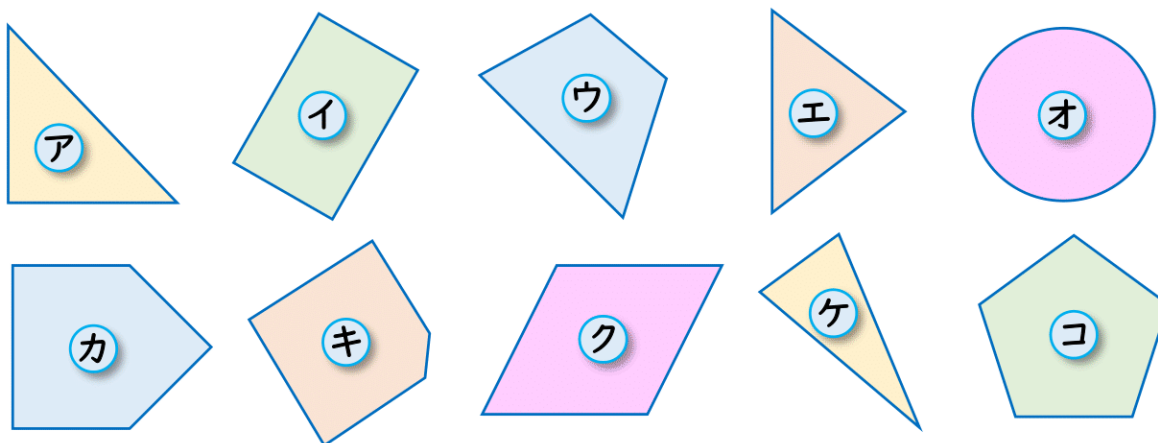
三角形や四角形の まわりの 直線を

かどの 点^{てん}を



何本の直線で
かこまれている
かで、なまえが
ちがうね。

1 三角形と 四角形を さがしましょう。




三角形 ()

四角形 ()

2 点を 直線で つないで 三角形と 四角形を かきましょう。

1 三角形



2 四角形

