

1

かさの たんい
水のかさ

べんきょうした日 月 日
名前

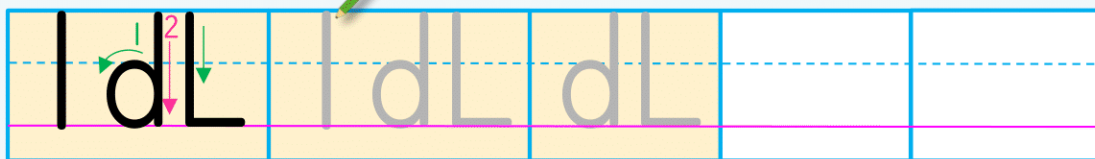


学習目安時間 15分

デシリットルをつかって あらわしましょう。



この 水のかさ 1つ分の ますを
1デシリットル(1dL)と いいます。



水などの りょうの ことを「かさ」と
いいます。かさを はかるには「ます」を
つかって はかるよ。

1

水のかさは、それぞれ 何dLですか。

1



かさは、1dLの ますが こ分で、 dL。

2



かさは、1dLの ますが こ分で、 dL。

2

びんに 入る 水のかさは、何dLですか。

1



()

2



()

2

かさの たんい
水のかさ

べんきょうした日 月 日
名前



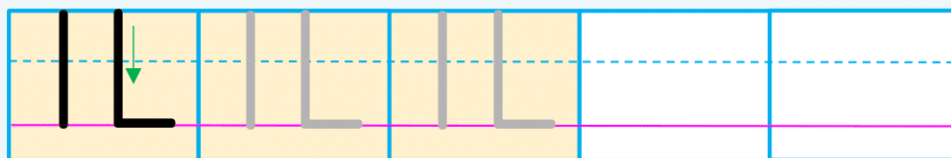
学習目安時間 15分

リットルをつかって あらわしましょう。

この 水のかさ 10こ分の ますを
1リットル (1L) と いいます。



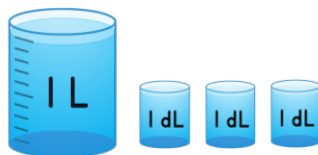

10こ分



大きな かさを あらわす ときは リットル
という たんいを つかうよ。

1 水のかさは、それぞれ 何L 何dL ですか。

1



1Lの ますが こと、
1dLの ますが こで
 L dLです。

2



1Lの ますが こと、
1dLの ますが こで
 L dLです。

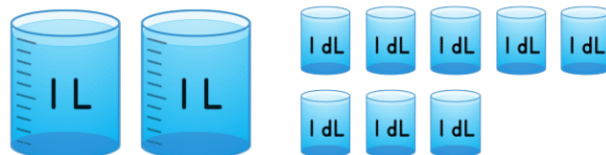
2 つぎの 水のかさは、何L 何dL ですか。

1



()

2



()

3

かさの たんい
水のかさ

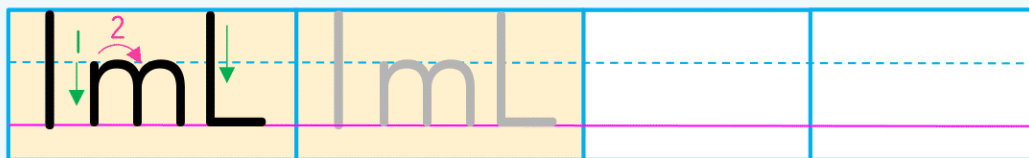

べんきょうした日 月 日
名前



学習目安時間 15分

ミリリットルをつかって あらわしましょう。

かさの たんいには、 LやdLのほかに
ミリリットル (mL) が あります。



1 dLより 少ない かさを mLで
あらわすことが できるよ。

1 水のかさは、それぞれ 何mLですか。

1 mL

2 mL

3 mL

4 mL

2 に あてはまる ^{かず}数を ^か書きましょう。

1 400 mL = dL

2 1000 mL = L

3 8 dL = mL

4 1 L 5 dL = dL

3 水のかさは あわせて 何mL ですか。



4

かさの たんい
水のかさ

べんきょうした日 月 日
なまえ



学習目安時間 15分

1 水のかさを、それぞれのあらわし方で書きましょう。

1 L dL

2 dL mL

3 L dL mL

4 L dL mL

2 にあてはまる >, <, = を書きましょう。

1 2L 3dL 32dL 2 1000mL 1dL

3 25dL 2050mL 4 5L 1dL 51dL

5 4L 8dL 4L 800mL 6 2400mL 2L 40mL

7 1250mL 12L5dL 8 7L 6dL 76dL

3 ア～オの水のかさがあります。

ア 3L 4dL イ 3200mL ウ 43dL エ 4L オ 2L 400mL

1 かさの多いじゆんに記ごうをかきましょう。

(→ → → →)

2 オより 1L 多いかさはどれですか。

()

5

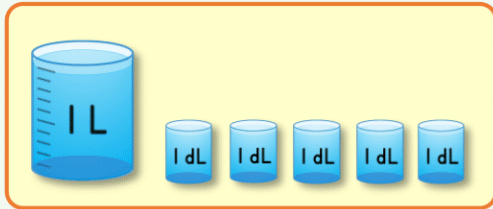
かさの たんい
水のかさ

べんきょうした日 月 日
なまえ



学習目安時間 15分

かさを 計算しましょう。



▶ あわせると 何Lに なりますか。

$$\square L \quad \square dL + \square dL = \square$$

(10 dL = 1 L)

同じ たんいの
数どうしを
計算するよ。

▶ ちがいは 何Lに なりますか。

$$\square L \quad \square dL - \square dL = \square$$



1 計算を しましょう。

- | | |
|---------------------|-------------------|
| 1 2L + 3L = | 2 5L + 2dL = |
| 3 3dL + 1L 2dL = | 4 300mL + 700mL = |
| 5 5L - 3L = | 6 3L - 1L 5dL = |
| 7 5L 3dL - 2L 7dL = | 8 2L - 800mL = |

2 2L入りの お茶と 900mL入りの 牛にゅうと 12dLの
ジュースが ありました。

- 1 お茶は 牛にゅうより 何dL 多いですか。
()
- 2 お茶と 牛にゅうと ジュースを あわせると 何mL ですか。
または、何L 何dL ですか。
() または ()

6

かさの たんい
水のかさ

べんきょうした日 月 日
なまえ



学習目安時間 15分

1 ア～オの 水のかさが あります。

ア IL IL イ 1dL 1dL 1dL ウ IL 1dL 1dL 1dL 1dL 1dL

エ 1500mL オ 500mL

- 1 いちばん 多い かさは どれですか。 ()
- 2 いちばん 少ない かさは どれですか。 ()
- 3 同じ 水のかさは どれと どれですか。 (と)
- 4 イとオを あわせると 何dL ですか。 ()
- 5 アとエの ちがいは 何mL ですか。 ()

2 りんごジュースが 950mL あります。みかんジュースは やさいジュースより 200mL 少なく、りんごジュースより 350mL 少ないそうです。

1 みかんジュースは 何mL ありますか。

しき

答え ()

2 やさいジュースは 何mL ありますか。

しき

答え ()