

# 4


## かさの たんい 水のかさ


べんきょうした日 月 日  
なまえ





学習目安時間 15分

1 水のかさを、それぞれのあらわし方で書きましよう。

1   L  
 dL

2   dL  
 mL

3   L  dL  
 mL

4   L  dL  
 mL

2  にあてはまる >, <, = を書きましよう。

1 2L 3dL  32dL      2 1000mL  1dL  
3 25dL  2050mL      4 5L 1dL  51dL  
5 4L 8dL  4L 800mL      6 2400mL  2L 40mL  
7 1250mL  12L5dL      8 7L 6dL  76dL

3 ア～オの水のかさがあります。

ア 3L 4dL    イ 3200mL    ウ 43dL    エ 4L    オ 2L 400mL

1 かさの多いじゆんに記ごうをかきましよう。

(      →      →      →      →      )

2 オより 1L 多いかさはどれですか。 (      )