

1

大きい数

べんきょうした日 月 日
名前



学習目安時間 15分

100より 大きい数を あらわしましょう。

<p>100 100 百のくらい <input type="text"/></p>	<p>10 10 10 十のくらい <input type="text"/></p>	<p>1 1 1 1 1 一のくらい <input type="text"/></p>
---	--	---



100の まとまりが 2こで 二百 (にひゃく) と よむよ。
二百と 三十五で 二百三十五 (にひゃくさんじゅうご) だね。

数字で かきましょう

二百三十五



1 ブロックは 何こ ありますか。数字で かきましょう。

1

100 が <input type="text"/> こ,	10 が <input type="text"/> こ,	1 を <input type="text"/> こ

あわせた 数は です。

2

あわせた 数は <input type="text"/>		



2

大きい数

べんきょうした日 月 日

名前



学習目安時間 15分

何円 ありますか。



百のくらい <input type="text"/>	十のくらい <input type="text"/>	一のくらい <input type="text"/>
-------------------------------	-------------------------------	-------------------------------



100円玉が 6こ, 1円玉が 4こ あるよ。
10円玉が ないときは 0と 書くよ。

数字で かきましょう

六百四



1 何円 あるでしょう。数を よんで 数字で 書きましょう。



四百三十五







2 数字で 書きましょう。

1 二百七十八

2 五百三

3 七百六十

()

()

()



3

大きい数

べんきょうした日 月 日
名前



学習目安時間 15分

1 に あてはまる ^{かず} 数を ^か 書きましょう。


1 100を 3こ, 10を 8こ, あわせた 数は です。

2 100を 8こ 1を 1こ あわせた 数は です。

3 450は, 100を こ, 10を こ あわせた 数です。

4 206は, 100を こ, を 6こ あわせた 数です。

2 つぎの 数は いくつ ありますか。



() 本



() 円

3 つぎの 数を かん字で 書きましょう。

1 627

2 903

3 240

()

()

()

4 ^{けいさん} 計算を しましょう。

1 $300 + 40 =$

2 $900 + 60 =$

3 $500 + 8 =$

4 $80 + 200 =$

5 $420 - 20 =$

6 $510 - 500 =$



4

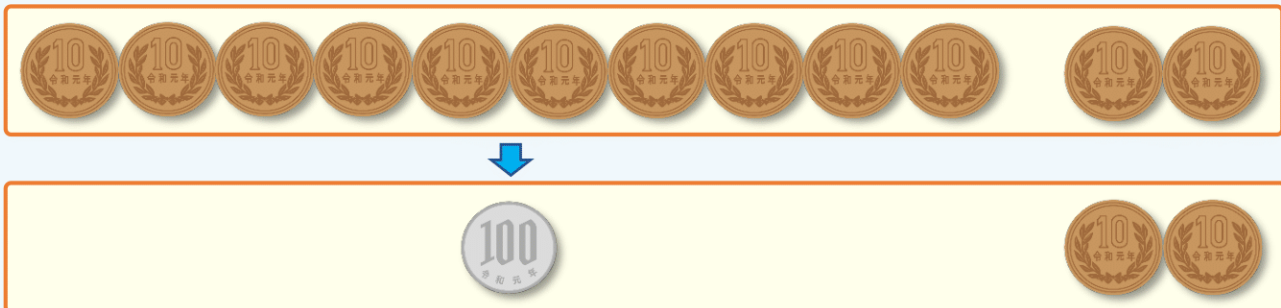
大きい数

べんきょうした日 月 日
名前



学習目安時間 15分

10円玉と 100円玉で あらわしましょう。



10を 10こ あつめた ^{かず}数は で、10を 2こ
あつめた 数は です。あわせて です。

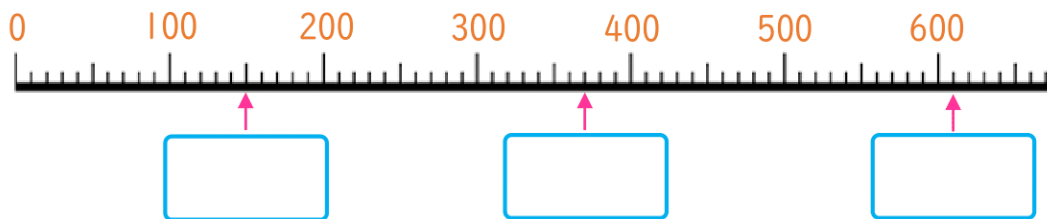


10円玉が 10まいで 100円に なるよ。
120円は 10円玉を 12こ あつめた 数だね。

1 に あてはまる 数を 書きましょう。

- ① 10を 38こ あわせた 数は です。
- ② 10を 90こ あわせた 数は です。
- ③ 720は、10を こ あわせた 数です。
- ④ 300は、10を こ あわせた 数です。

2 数の^{せん}線を見て、 に あてはまる 数を 書きましょう。



▶ いちばん 小さい 1めもりは を あらわしています。

5

大きい数

べんきょうした日 月 日
なまえ



学習目安時間 15分

数の 大小を あらわしましょう。

百の位	十の位	一の位
5	7	3
6	7	3

百の位	十の位	一の位
3	7	5
3	2	8

573 < 673

375 328



○ (まる) の 数字を 見れば, 数の 大小が わかるね。
数の 大小は, \geq , \leq の しるしを つかって あらわすよ。

1 に あてはまる ことばや しるしを 書きましょう。

1 487は 469より 。 487 469

2 786は 795より 。 786 795

2 に あてはまる $>$, $<$ の しるしを 書きましょう。

1 182 185 2 306 296 3 552 562

4 213 231 5 720 730 6 609 518

3 つぎの カードの 大小を $>$, $<$, $=$ を つかって あらわしましょう。

=は 大きさが 同じことを あらわすよ。

1 80+20 90

2 100 70+40



3 90+70 150

4 80+20 120-20

べんきょうした日 月 日
なまえ



学習目安時間 15分

6

大きい数

1 に あてはまる 数を 書きましょう。

1

2

550 — — 570 — — 590 —

3

— — 945 — 940 — — 930

2 に あてはまる $>$, $<$, $=$ の しるしを 書きましょう。

1 478 487 2 957 948

3 215 $150 + 60$ 4 $150 + 300$ 450

3 ほのかさんは 550円, はるかさんは 350円 もっています。

1 あてはまる $>$, $<$ を 書きましょう。

ほのか はるか

2 2人 あわせると 何円に なりますか。

しき 答え ()

3 どちらが 何円 多く もっていますか。

しき

答え (さんが 円 多い)



7

大きい数

べんきょうした日 月 日
なまえ



学習目安時間 20分

1 計算を しましょう。

- | | |
|----------------------|----------------------|
| 1 250 + 320 = | 2 450 + 500 = |
| 3 100 + 320 = | 4 750 - 300 = |
| 5 150 - 80 = | 6 520 - 330 = |

2 大きさを くらべて に あてはまる 数を 書きましょう。

- | | |
|------------------------|--|
| 1 300, 240, 430 | <input type="text"/> < <input type="text"/> < <input type="text"/> |
| 2 526, 562, 652 | <input type="text"/> > <input type="text"/> > <input type="text"/> |
| 3 806, 860, 868 | <input type="text"/> < <input type="text"/> < <input type="text"/> |

3 おり紙が 250まい あります。70まい つかいました。
のこりは 何まいに なりますか。

しき



答え ()

4 なおさんは 150円 もっています。80円のおかashiを
買うと のこりは 何円に なりますか。

しき



答え ()

▷ 80円のおかashiを 2つ 買うには、なおさんは
あと 何円 あれば いいですか。

答え ()



8

大きい数

べんきょうした日 月 日
なまえ



学習目安時間 20分

1 □ に あてはまる 数字を 書きましょう。

1 $80 + \square = 120$

2 $\square + 50 = 180$

3 $40 + \square = 260$

4 $350 - \square = 100$

5 $\square - 140 = 80$

6 $\square + 260 = 840$

2 □ に あてはまる 数を ぜんぶ 書きましょう。

1 $456 < 4\square 6$
()

2 $834 > 83\square$
()

3 $19\square > 197$
()

4 $\square 27 > 517$
()

3 ショートケーキが 340円，チョコレートケーキが 230円
チーズケーキが 260円で 売っています。



1 ショートケーキと チーズケーキを あわせて
買うと，何円ですか。

しき

答え ()

2 チョコレートケーキは チーズケーキより 何円 やすいですか。

しき

答え ()

3 500円で 買える ケーキは どれと どれですか。



() と ()

べんきょうした日 月 日
名前



学習目安時間 25分

9

大きい数

1 計算を しましょう。

1 $350 + 125 =$

2 $625 + 375 =$

3 $125 + 590 =$

4 $845 - 230 =$

5 $180 - 95 =$

6 $530 - 285 =$

2 に あてはまる 数を 書きましょう。



3 420から 520までの 数の中で、つぎに あてはまる 数を ぜんぶ 書きましょう。

1 一の位が 5で、十の位が 5より 小さい数

()

2 一の位が 8より 大きく、十の位が 2より 小さい数

()

4 体いくかんに 男の子が 385人 女の子が 405人います。 ぜんいんが いすに すわるには、15こ たりませんでした。 はじめに いすは 何こ ありましたか。

しき

答え ()



10

大きい数

べんきょうした日 月 日
名前



学習目安時間 25分

1 に あてはまる 数を 書きましょう。

1 $550 + \square = 720$

2 $\square - 215 = 350$

3 $485 - 270 = \square$

4 $350 + \square = 805$

5 $\square - 140 = 505$

6 $\square + 295 = 1000$

2 750から 850までの 数の中で、一の位の 数字と 十の位の 数字を たすと 13に なる数を ぜんぶ 答えましょう。

()


2 \bigcirc から 150を ひくと 450になり、たすと \triangle になります。
 \bigcirc と \triangle の 数は それぞれ いくつですか。

\bigcirc \triangle

3 3つの 数 \bigcirc , \triangle , \square , が あります。 \bigcirc と \triangle を たすと 360, \triangle と \square を たすと 300になり, \triangle は \bigcirc の 半分の 大きさです。3つの 数は それぞれ いくつですか。

\bigcirc \triangle \square

4 2年生 みんなで おりづるを 作りました。1組は 250こ、
2組は 1組より 35こ 少ないそうです。3組は 4組より
50こ 少なく 2組より 15こ 多いそうです。
2組と 3組と 4組の 作った 数は 何こですか



2組 () 3組 () 4組 ()