

4

時ごとと時間

べんきょうした日 月 日
名前



学習目安時間 20分

1 ^{いま}今の時ごくは、9時30分です。
つぎの時ごくを 答えましょう。









- 1** 1時間後 ()
- 2** 15分前 ()
- 3** 1時間前 ()
- 4** 2時間後 ()
- 5** 1時間30分前 ()

2 □ に あてはまる 数を 書きましょう。

- 1** 1時間 = □ 分
- 2** 80分 = □ 時間 □ 分
- 3** 100分 = □ 時間 □ 分
- 4** 1日 = □ 時間
- 5** 1時間35分 = □ 分
- 6** 120分 = □ 時間

3 あ から い までの 時間は 何時間何分ですか。

1	あ 	い 	()
2	あ 	い 	()
3	あ 	い 	()