

2

時ごとと時間


べんきょうした日 月 日
名前




学習目安時間 15分

1 つぎの 時間は 何分間ですか。


1 7時から 7時20分まで




2 7時30から 7時35分まで




3 4時20分から 5時まで




4 12時15から 12時35分まで



5 3時15分から 3時30分まで




6 5時10から 6時まで



2 つぎの 時間は 何分間ですか。

1 2時10分から 2時48分まで



2 4時30から 5時15分まで

