

4

ひょうとグラフ

べんきょうした日 月 日
なまえ



学習目安時間 15分

1

さいころの出た目の数を しらべましょう。

回	1	2	3	4	5	6	7	8	9	10	11	12
出た目												


1 さいころの出た目の数を ひょうに 書きましょう。

出た目						
出た回数						

2 さいころの出た目の数を、グラフに あらわしましょう。

回	1	2	3	4	5


3 さいころの出た目の数が いちばん 多いのは どれですか。




あてはまる さいころを Oで かこんでね。



4 さいころの出た目の数が おなじ目は、どれと どれですか。



5 1回も 出なかった サイコロの目は どれですか。



6 と の 出た数の ちがいは いくつですか。

