

べんきょうした日 月 日
なまえ

学習目安時間 15分

1

かたちづくり

なんまいで できますか。

したの かたちは、あ の いろいろが なんまいで できますか。

あ

いろいろに
せんを かくと
わかりやすいね。



① 8 まい ② 12 まい ③ 9 まい


1 したの かたちは  の いろいろを なんまい
つかって いますか。

1 
3 まい

2 
8 まい

3 
7 まい

2 あ の いろいろが なんまいで できますか。

あ 

① 6 まい ② 14 まい ③ 12 まい

2

かたちづくり

べんきょうした日 月 日
なまえ

学習目安時間 15分

なんぼんで できますか。

したの かたちは、かぜえぼう の ぼうが ほん なん本で できますか。

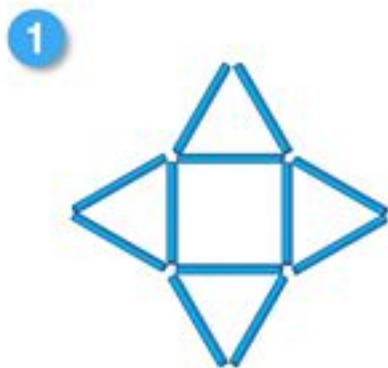


ぼうを ならべると
いろいろな かたち
ができるね。



① 3 本 ② 4 本 ③ 7 本

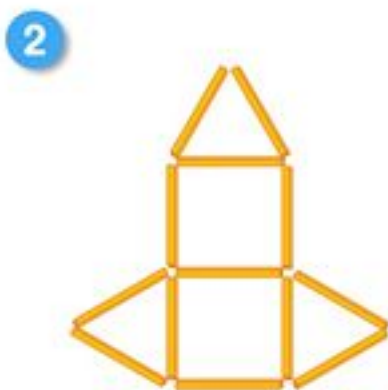
1 — の ぼうで いろいろな かたちを つくりました。
かたちは それぞれ なんこ ありますか。また つかった
ぼうの かずは なん本 ありますか。



 の かたちが 1 こ

の かたちが 4 こ

— の かずは 12 本



 の かたちが 2 こ

の かたちが 3 こ

— の かずは 13 本

3

かたちづくり

べんきょうした日 月 日
なまえ

学習目安時間 15分

おなじ かたちを かきましょう。

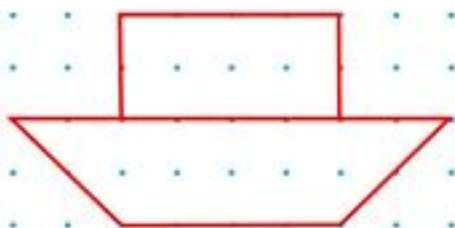
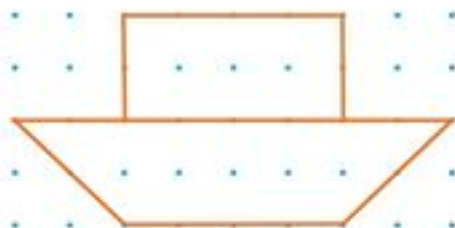


てんと てんを せんで
つないでも かたちを
つくること が できるよ。

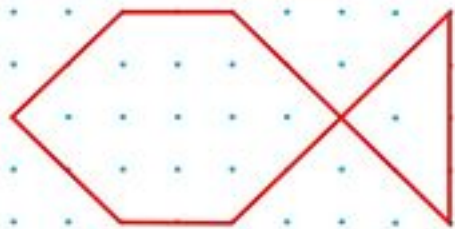
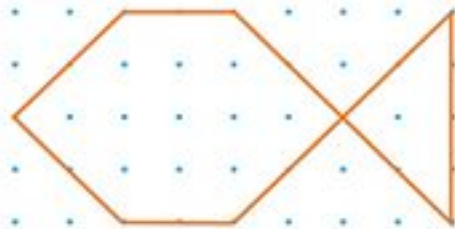


1 おなじ かたちを みぎに かきましょう。

1



2



2 すきな かたちを いろいろ かいてみよう。



かたちの
なまえも
おしえてね。



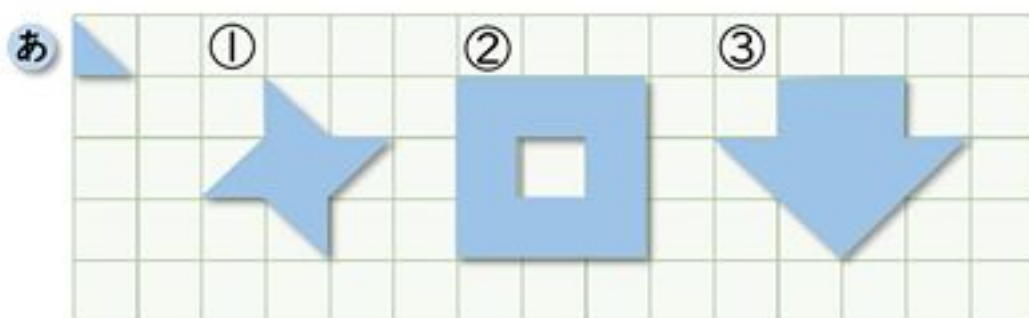
4

かたちづくり

べんきょうした日 月 日
なまえ

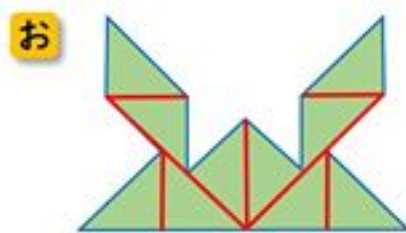
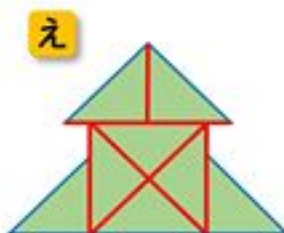
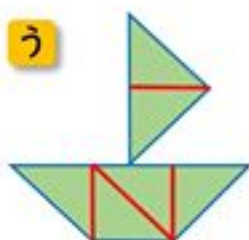
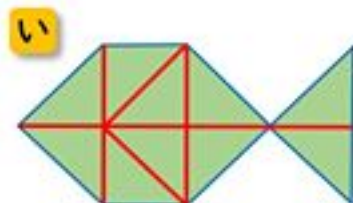
学習目安時間 20分


- ① したの かたちは、あの いろいろたが なんまいで
できますか。




- ① **6** まい ② **16** まい ③ **12** まい

- ② さんかくの いろいろたを ならべて、あ～おの
かたちを つくりました。



- ①  の ならべかたが わかるように、あ～おに
せんを かきましょう。 同じ三角の形で、線が描かれていること。
答えは例です。

- ② おなじ まいすうの  を つかって できた かたちは、
どれと どれですか。2つ こたえましょう。

(あ と え)


(い と お)

5

かたちづくり

べんきょうした日 月 日
なまえ

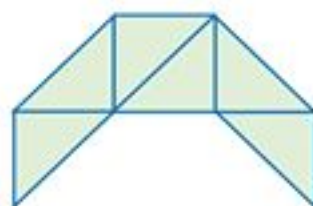
学習目安時間 20分

①  を 2まい うごかして みぎの かたちに しました。 うごかした いろいろに Oを つけましょう。

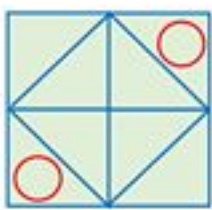
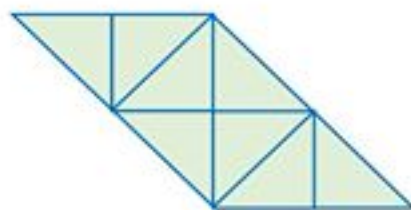
1



うごかした いろいろに Oを つけてね。



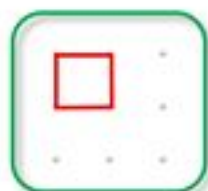
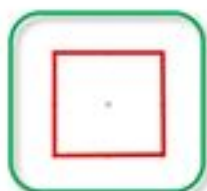
2

② てんと てんをつないで、それぞれ ちがう かたちをかきましょう。

1 ましかくを 3つ かきましょう。

例



2 さんかくを 5つ かきましょう。

例







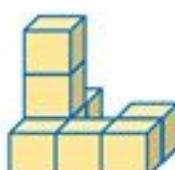




6


かたちづくり





べんきょうした日 月 日
なまえ


学習目安時間 20分


1  の つみ木を なんこ つかって いますか。
つまっている かずを かきましょう。


1  7 こ	2  11 こ	3  10 こ	4  8 こ
5  13 こ	6  16 こ	7  19 こ	8  10 こ

2 ひだりの つみきに するには、あと なんこ 
たりませんか。

	1  6 こ	2  15 こ	3  16 こ
---	---	---	--

3 みぎからみて かくれて
みえない つみ木は、
なんこ ありますか。 

みぎ 



4 こ