

4

なんじ なんぷん

べんきょうした日 月 日
なまえ




学習目安時間 15分

1

とけいの はりを かきましょう。


1 4じ10ぶん




2 8じ25ぶん




3 10じ37ぶん




4 12じ16ぶん



5 6じ1ぶん



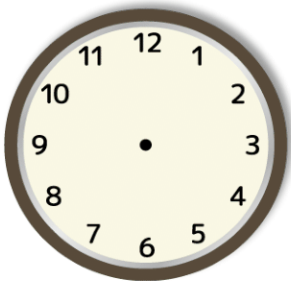
6 2じ58ぶん




2

したの とけいをみて、うえの とけいの はりを かきましょう。

1




2



3

へやの とけいは なんじ なんぷん?



かいてみよう!



すうじの とけい よめるかな?