

3


なんじ なんぷん


べんきょうした日 月 日
なまえ





学習目安時間 15分


1 とけいを よみましょう。


1 

2 

3 

4 

5 

6 

2 とけいの はりを かきましょう。

5じ13ぷん

11じ32ぷん

8じ45ぷん

1 

2 

3 

3 9じ57ぷんの とけいは **あ** **い** の どちらですか。



()

あ 

い 