

べんきょうした日 月 日
なまえ



学習目安時間 15分

5

ひきざん

くりさがりの ある ひきざん

1 に あてはまる かずを かきましょう。

1 $18 - \square = 9$

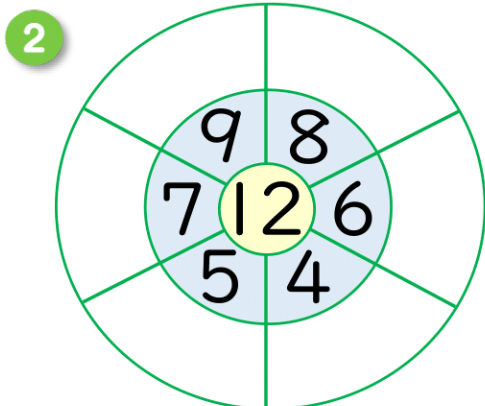
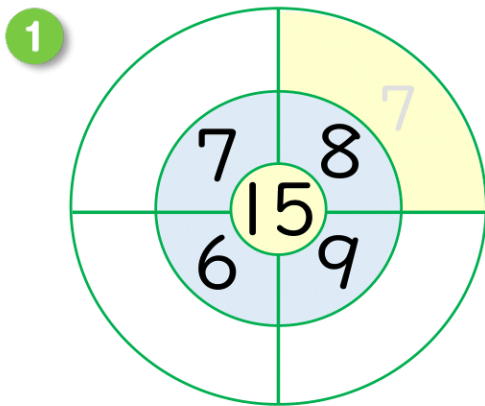
2 $13 - \square = 7$

3 $\square - 8 = 7$

4 $\square - 9 = 3$


5 $14 - \square - 8 = 1$

2 まん中の かずと、まわりの かずを ひきましょう。



3 赤い おりづるが 13こ、青い おりづるが 8こ あります。どちらが なんこ おおいですか。

しき



こたえ ()



「どちらが なんこ おおい」を ことばを つかって こたえよう。