

2


10より大きいかず

べんきょうした日 月 日
なまえ




学習目安時間 10分


かずを すうじて かきましょう。




じゅうろく



じゅうしち



じゅうはち



じゅうく



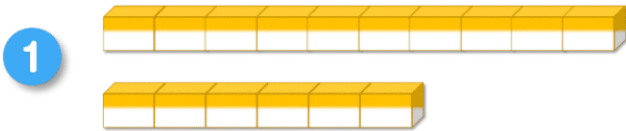
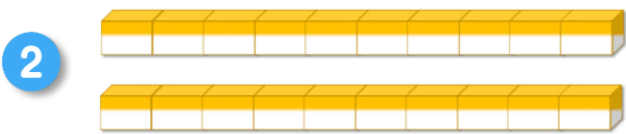
にじゅう

10のまとまりが 2つ があると
20だね



1

10と いくつ ありますか。

 と で  と で

2

ぜんぶで いくつ ありますか。

 と で  と で