

# 4

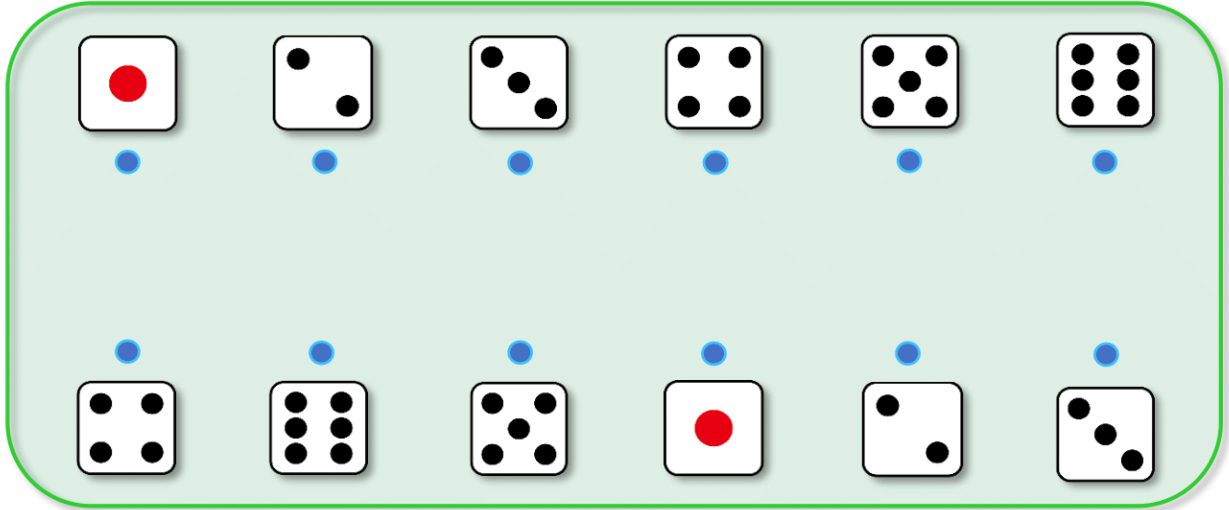
## いくつといくつ

べんきょうした日 月 日  
なまえ



学習目安時間 10分







1 うえの サイコロと したの サイコロで あわせて 7になるように ●—● で おすびみましょう。



2 □ に あてはまる かずを かきましょう。

- |             |              |
|-------------|--------------|
| 1 8 は 1 と □ | 2 □ は 3 と 6  |
| 3 6 は □ と 2 | 4 10 は 7 と □ |
| 5 □ は 4 と 6 | 6 □ は 2 と 2  |

3 どうぶつが もっている かずを 2つに わけましょう。

1 	2 	3 
		

2つの かずは じぶんできんがえてみよう!

