

1

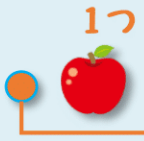







いくつといくつ

べんきょうした日 月 日
なまえ



学習目安時間 10分

5は いくつと いくつに なりますか。

		1 と 4
		2 と <input type="text"/>
		3 と <input type="text"/>
		4 と <input type="text"/>



1つの だんに りんごは ぜんぶで 5こ あるよ。

1 えを みて 6は いくつと いくつに なりますか。

1			<input type="text"/>	と	<input type="text"/>
2			<input type="text"/>	と	<input type="text"/>
3			<input type="text"/>	と	<input type="text"/>
4			<input type="text"/>	と	<input type="text"/>

2 に あてはまる かずを かきましょう。

1	6 は 5 と <input type="text"/>	2	3 は 1 と <input type="text"/>
3	4 は <input type="text"/> と 2	4	5 は <input type="text"/> と 2