

# 4


## いまなんじ なんじ なんじはん


べんきょうした日 月 日  
なまえ





学習目安時間 10分


1 とけいを よみましょう。


1 

2 


3 

4 

5 

6 

2 とけいの はりを かきましょう。

1 1じ 

2 4じはん 

3 12じはん 

3 12じはんのとけいは あ い の どちらですか。



( )

あ 

い 