

1

いくつかな
かずとすうじ

べんきょうした日 月 日
なまえ

学習目安時間 20分

1 すうじを かきましょう。



かくときは
こえを だしてね

1 dot

いち 1

1 stroke order diagram and writing grid

2 dots

に 2

2 stroke order diagram and writing grid

3 dots

さん 3

3 stroke order diagram and writing grid

4 dots

しよん 4

4 stroke order diagram and writing grid

5 dots

ご 5

5 stroke order diagram and writing grid

6 dots

ろく 6

6 stroke order diagram and writing grid

7 dots

しち なな 7

7 stroke order diagram and writing grid

8 dots

はち 8

8 stroke order diagram and writing grid

9 dots

く きゅう 9

9 stroke order diagram and writing grid

10 dots

じゅう 10

10 stroke order diagram and writing grid

2

いくつかな かずとすうじ

べんきょうした日 月 日
なまえ



学習目安時間 10分

りんごの かずを すうじで かきましょう。

Counting practice with apples:

- 2 apples →
- 5 apples →
- 4 apples →
- 1 apple →
- 6 apples →

こえを だして
かぞえてね



1 かずだけ ○に いろを ぬりましょう。おなじ すうじ
に ●—●せんを ひきましょう。

Coloring and dot-marker activity:

- 1 strawberry → 5 circles → ● → 1
- 2 oranges → 5 circles → ● → 3
- 3 empty space → 5 circles → ● → 4
- 4 kiwis → 5 circles → ● → 5
- 5 bananas → 5 circles → ● → 2

2 おおきい かずに ○を つけましょう。

Dot-marker activity with boxes:

- Box 1: 2 dots → ()
- Box 2: 4 dots → ()
- Box 3: 3 dots → ()
- Box 4: 3 → ()
- Box 5: 5 → ()
- Box 6: 2 → ()

3

いくつかな
かずとすうじ

べんきょうした日 月 日
なまえ



学習目安時間 10分

みかんの かずを すうじで かきましょう。

<input type="text"/>	<input type="text"/>	<input type="text"/>	<input type="text"/>	<input type="text"/>



1 かずだけ ○に いろを めりましょう。おなじ すうじ
に ●—●せんを ひきましょう。

1			●	●	9
2			●	●	8
3			●	●	6
					7
					10

2 おおきい かずに ○を つけましょう。

1		()	2	8	()	3		()
	10	()			()		7	()

4





いくつかな かずとすうじ

べんきょうした日 月 日
なまえ




学習目安時間 10分

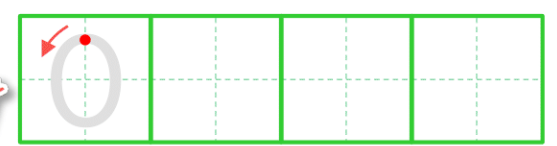
かずが おなじものを ●—● で おすびましょう。



1 かずが おなじものを ●—● で おすびましょう。□ に
あてはまる かずを かきましょう。



なにも ないときは
0「れい」を かくよ



5

いくつかな
かずとすうじ

べんきょうした日 月 日
なまえ



学習目安時間 10分

じゅんばんに かずを かきましょう。



これは 1から 10までの ならびかただね。
ちいさいじゅんに かずを かくといいよ!

1 □ に あてはまる かずを かきましょう。

1 — □ — 2 — □ — 4 — 5 — □ —

2 — □ — 6 — 5 — □ — 3 — □ —

3 — □ — □ — 8 — □ — 6 — □ —

4 — □ — □ — 2 — □ — □ — 5 —

6

いくつかな
かずとすうじ

べんきょうした日 月 日
なまえ



学習目安時間 10分

どちらが おおきい ですか

<input type="text"/>	<input type="text"/>	<input type="text"/>	<input type="text"/>	<input type="text"/>	<input type="text"/>



すうじが おおきい ほうに
まるを つけてね

1 しろくまと ぱんだでは どちらが おおいですか。

1		おなじ かずだけ いろを ぬろう	かず	おおい ほうに Oを つけよう
	しろくま	○ ○ ○ ○ ○	<input type="text"/>	()
	ぱんだ	○ ○ ○ ○ ○	<input type="text"/>	()

2 のほうが より おおい。

2 つぎの かずより 1 おおきい かずと
かずを かきましょう。

1 ちいさい

1		2		3	
	<input type="text"/> <input type="text"/>		<input type="text"/> <input type="text"/>		<input type="text"/> <input type="text"/>

7

いくつかな かずとすうじ

スキルマ問題

べんきょうした日 月 日
なまえ



学習目安時間 15分

1 おおきい すうじに ○を つけましょう。

1	7	4	6	2	3	5	4	3	0	7	3
	()	()	()		()	()	()		()	()	()
4	9	10	8	5	1	4	0	6	5	9	
	()	()	()		()	()	()		()	()	()

2 つぎの かずを おおきい じゅんに ならべましょう。

1	5	3	9	6	1	()		
2	2	0	7	9	4	10	5	()
3	8	6	9	0	7	2	3	()

3 つぎの かずより 2 おおきい かずと 2 ちいさい かずを かきましょう。

1	2	2	5	2	8	2
	()	()	()	()	()	()

4 □ に あてはまる かずを かきましょう。

1	—	1	—	□	—	□	—	4	—	5	—	□	—
2	—	□	—	□	—	5	—	□	—	3	—	2	—
3	—	0	—	2	—	□	—	6	—	□	—	10	—

8

いくつかな
かずとすうじ

スキルマ問題

べんきょうした日 月 日
なまえ



学習目安時間 15分


1 ○が 6こに なるように ○を かきたしましょう。
おい ○は ×で けきましょう。

1

2

3

2 えをみて もんだいの かずを かきましょう。



たんいも かこう

- 1 えんぴつは ぜんぶで いくつ ありますか。
- 2 けしゴムは ぜんぶで いくつ ありますか。
- 3 のなかに けしゴムは いくつ ありますか。
- 4 のそとに えんぴつは いくつ ありますか。

3 2つの かずの ちがいを □に かきましょう。

1 2 3

2 6 8

3 7 4

4 8 3

5 4 10

6 5 0