

6







いくつかな かずとすうじ

べんきょうした日 月 日  
なまえ



学習目安時間 10分

どちらが おおきい ですか


 8	 9	 1	 0	 3	 2
<input type="text"/>	<input type="text"/>	<input type="text"/>	<input type="text"/>	<input type="text"/>	<input type="text"/>



すうじが おおきい ほうに  
まるを つけてね

1 しろくまと ぱんだでは どちらが おおいですか。

1

	おなじ かずだけ いろを ぬろう	かず	おおい ほうに Oを つけよう
しろくま ○○○○○	<input type="text"/>	<input type="text"/>	<input type="text"/>
ぱんだ ○○○○○	<input type="text"/>	<input type="text"/>	<input type="text"/>

2  のほうが  より  おおい。

2 つぎの かずより 1 おおきい かずと  
かずを かきましょう。

1 ちいさい 

1	2	3
