


1



小数のわり算の筆算 3

小数÷小数 (くり下がりがなし)



1 次の計算をしましょう。

①
$$\begin{array}{r} 6 \\ 1.8 \overline{) 10.8} \\ \underline{10.8} \\ 0 \end{array}$$

②
$$\begin{array}{r} 6 \\ 2.2 \overline{) 13.2} \\ \underline{13.2} \\ 0 \end{array}$$

③
$$\begin{array}{r} 9 \\ 2.7 \overline{) 24.3} \\ \underline{24.3} \\ 0 \end{array}$$

④
$$2.5 \overline{) 22.5}$$

⑤
$$3.6 \overline{) 14.4}$$

⑥
$$4.7 \overline{) 14.1}$$

⑦
$$5.6 \overline{) 16.8}$$

⑧
$$4.7 \overline{) 37.6}$$

⑨
$$3.1 \overline{) 21.7}$$

2 次の計算を筆算でしましょう。

① $25.2 \div 3.6$

② $14.4 \div 1.8$

③ $33.5 \div 6.7$

筆算

筆算

筆算

2



小数のわり算の筆算 3

小数÷小数 (くり下がりがなし)



1 次の計算をしましょう。

①

$$3.4 \overline{)23.8}$$

②

$$5.7 \overline{)28.5}$$

③

$$8.3 \overline{)58.1}$$

④

$$4.3 \overline{)34.4}$$

⑤

$$5.6 \overline{)33.6}$$

⑥

$$7.8 \overline{)70.2}$$

⑦

$$9.5 \overline{)85.5}$$

⑧

$$2.6 \overline{)18.2}$$

⑨

$$4.6 \overline{)32.2}$$

2 次の計算を筆算でしましょう。

①

$$33.6 \div 8.4$$

②

$$13.6 \div 6.8$$

③

$$31.2 \div 7.8$$

筆算

筆算

筆算

3



小数のわり算の筆算 3

小数÷小数 (くり下がりがなし)



1 次の計算をしましょう。

①

$$1.8 \overline{)16.6}$$

②

$$5.3 \overline{)10.6}$$

③

$$4.1 \overline{)12.3}$$

④

$$5.4 \overline{)32.4}$$

⑤

$$3.6 \overline{)14.4}$$

⑥

$$3.4 \overline{)30.6}$$

⑦

$$6.9 \overline{)34.5}$$

⑧

$$2.1 \overline{)14.7}$$

⑨

$$3.1 \overline{)12.4}$$

2 次の計算を筆算でしましょう。

①

$$39.6 \div 9.9$$

②

$$21.6 \div 3.6$$

③

$$48.3 \div 6.9$$

筆算

筆算

筆算

4



小数のわり算の筆算 3

小数÷小数 (くり下がりがなし)



1 次の計算をしましょう。

① $7.9 \overline{)47.7}$

② $5.9 \overline{)23.6}$

③ $3.2 \overline{)22.4}$

④ $8.4 \overline{)25.2}$

⑤ $6.6 \overline{)39.6}$

⑥ $3.4 \overline{)27.2}$

⑦ $6.3 \overline{)44.1}$

⑧ $3.3 \overline{)16.5}$

⑨ $5.7 \overline{)17.1}$

2 次の計算を筆算でしましょう。

① $18.6 \div 6.2$

② $35.2 \div 4.4$


③ $31.8 \div 5.3$

筆算

筆算

筆算

5



小数のわり算の筆算 3

小数÷小数 (くり下がりがなし)



1 次の計算をしましょう。

①

$$4.5 \overline{)13.5}$$

②

$$2.2 \overline{)15.4}$$

③

$$2.9 \overline{)11.6}$$

④

$$4.9 \overline{)34.3}$$

⑤

$$3.6 \overline{)32.4}$$

⑥

$$7.8 \overline{)70.2}$$

⑦

$$2.8 \overline{)16.8}$$

⑧

$$1.7 \overline{)13.6}$$

⑨

$$2.6 \overline{)23.4}$$

2 次の計算を筆算でしましょう。

①

$$55.8 \div 6.2$$

②

$$65.1 \div 9.3$$

③


$$77.4 \div 8.6$$

筆算

筆算

筆算

6



小数のわり算の筆算 3

小数÷小数 (くり下がりがなし)



1 次の計算をしましょう。

①

$$2.6 \overline{)23.4}$$

②

$$8.9 \overline{)80.1}$$

③

$$9.3 \overline{)46.5}$$

④

$$8.5 \overline{)59.5}$$

⑤

$$2.1 \overline{)16.8}$$

⑥

$$4.8 \overline{)28.8}$$

⑦

$$4.3 \overline{)25.8}$$

⑧

$$4.8 \overline{)43.2}$$

⑨

$$9.2 \overline{)27.6}$$

2 次の計算を筆算でしましょう。

①

$$52.5 \div 7.5$$

②

$$34.4 \div 8.6$$

③


$$46.8 \div 7.8$$

筆算

筆算

筆算

7



小数のわり算の筆算 3

小数÷小数 (くり下がりがなし)

**1** 次の計算をしましょう。

①

$$5.2 \overline{)31.2}$$

②

$$8.6 \overline{)68.8}$$

③

$$5.8 \overline{)17.4}$$

④

$$6.4 \overline{)51.2}$$

⑤

$$3.7 \overline{)22.2}$$

⑥

$$1.3 \overline{)11.7}$$

⑦

$$9.6 \overline{)38.4}$$

⑧

$$3.8 \overline{)22.8}$$

⑨

$$8.1 \overline{)56.7}$$

2 次の計算を筆算でしましょう。

①

$$26.7 \div 8.9$$

②

$$44.1 \div 6.3$$

③


$$50.4 \div 8.4$$

筆算

筆算

筆算

8



小数のわり算の筆算 3

小数÷小数 (くり下がりがなし)



1 次の計算をしましょう。

①

$$8.6 \overline{)34.4}$$

②

$$2.9 \overline{)20.3}$$

③

$$7.7 \overline{)30.8}$$

④

$$4.6 \overline{)13.8}$$

⑤

$$8.6 \overline{)68.8}$$

⑥

$$2.9 \overline{)26.1}$$

⑦

$$4.2 \overline{)12.6}$$

⑧

$$5.8 \overline{)17.4}$$

⑨

$$3.3 \overline{)26.4}$$

2 次の計算を筆算でしましょう。

①

$$19.6 \div 2.8$$

②

$$25.2 \div 2.8$$

③


$$32.2 \div 4.6$$

筆算

筆算

筆算

9



小数のわり算の筆算 3

小数÷小数 (くり下がりがなし)

**1** 次の計算をしましょう。

①

$$6.9 \overline{)48.3}$$

②

$$3.4 \overline{)20.4}$$

③

$$5.3 \overline{)42.4}$$

④

$$4.9 \overline{)29.4}$$

⑤

$$2.7 \overline{)24.3}$$

⑥

$$9.1 \overline{)63.7}$$

⑦

$$7.1 \overline{)28.4}$$

⑧

$$4.1 \overline{)36.9}$$

⑨

$$8.1 \overline{)72.9}$$

2 次の計算を筆算でしましょう。

①

$33.2 \div 8.3$

②

$68.4 \div 7.6$

③


$29.6 \div 3.7$

筆算

筆算

筆算

10



小数のわり算の筆算 3

小数÷小数 (くり下がりがなし)



1 次の計算をしましょう。

①

$$3.1 \overline{)24.8}$$

②

$$1.9 \overline{)17.1}$$

③

$$8.9 \overline{)26.7}$$

④

$$6.3 \overline{)44.1}$$

⑤

$$8.4 \overline{)33.6}$$

⑥

$$7.8 \overline{)62.4}$$

⑦

$$5.9 \overline{)41.3}$$

⑧

$$3.4 \overline{)10.2}$$

⑨

$$3.8 \overline{)26.6}$$

2 次の計算を筆算でしましょう。

①

$$41.3 \div 5.9$$

②

$$21.9 \div 7.3$$

③

$$70.4 \div 8.8$$

筆算

筆算

筆算