



3 イベント


月 日



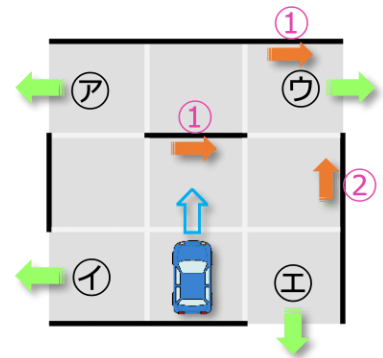
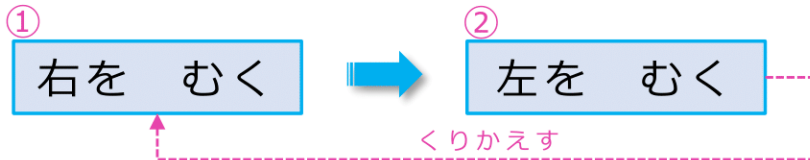
だっしゅつ ④

なまえ _____



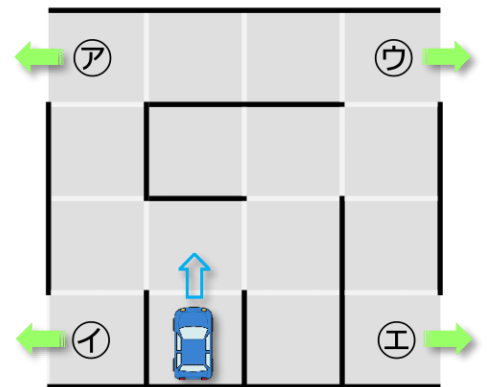
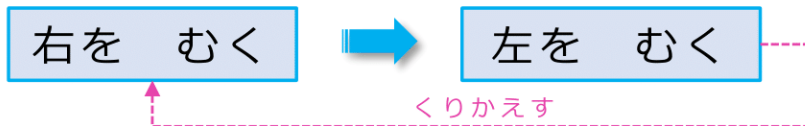
ロボットの ^{くるま}  を うごかして ㉖～㉗の ^{でぐち} 出口に
むかきましょう。

くるまは まっすぐにしか すすめません。
かべに あたるたびに つぎの めいれいを
じゅんばんに くりかえしていきます。



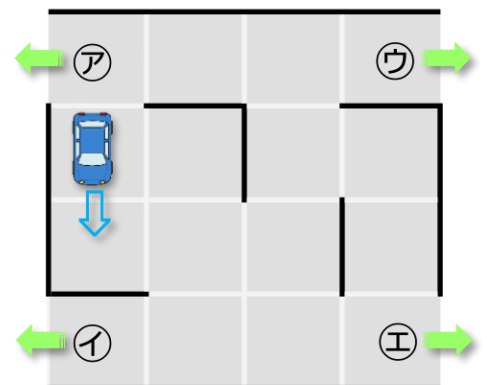
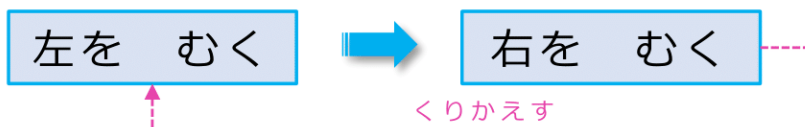
どの 出口に たどりつきますか。 []
㉖～㉙から えらびましょう。

(1)



どの 出口に たどりつきますか。 []
㉖～㉙から えらびましょう。

(2)



どの 出口に たどりつきますか。 []
㉖～㉙から えらびましょう。