

3 イベント


月 日



だっしゅつ ②

なまえ \_\_\_\_\_

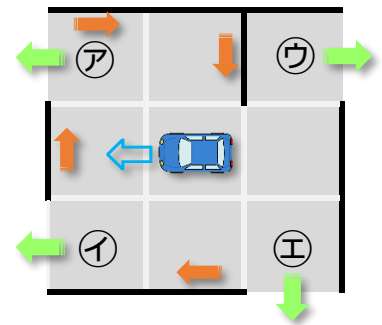
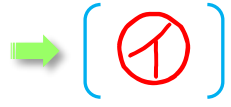


ロボットの <sup>くるま</sup>  を うごかして ㉠～㉤の <sup>でぐち</sup> 出口に  
むかきましょう。

くるまは まっすぐにしか すすめません。  
かべに あたったら つぎの めいれいの  
とおりに うごきます。

右を むく

どの 出口に たどりつきますか。  
㉠～㉤から えらびましょう。



(1)

右を むく

(2)

左を むく

