



3 イベント


月 日



だっしゅつ ①

なまえ _____

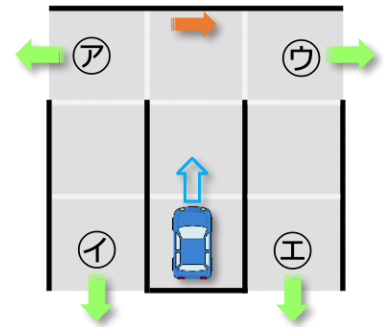


ロボットの ^{くるま}  を うごかして ㉠～㉤の ^{でぐち} 出口に
むかきましょう。

くるまは まっすぐにしか すすめません。
かべに あたったら つぎの めいれいの
とおりに うごきます。

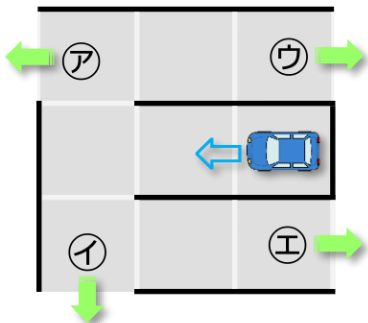
^{みぎ}
右を むく

どの 出口に たどりつきますか。
㉠～㉤から えらびましょう。



(1)

^{みぎ}
右を むく



(2)

^{ひだり}
左を むく

