



2 イベント



月 日



ロボットのうごき ①

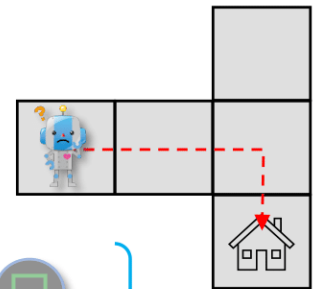
なまえ _____



ロボット  を うごかして ^{ゴール} を めざします。
 ボタンを おすと つぎのように めいれいします。



どちらの ボタンを
おすと ゴールに
いけるかな？




⇒ は 1マス すすむ ほうこうです。
 どの ボタンを おしますか。



どの ボタンを おしますか。 ○を つけましょう。

(1)



(2)

