


4 **じゅんじ**

月 日



カードのじゅんばん ⑤

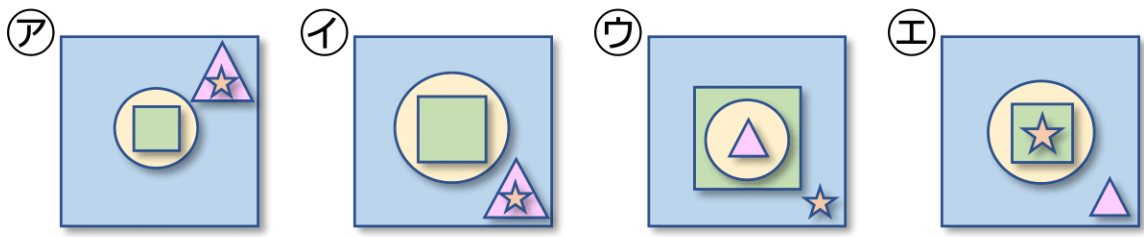
なまえ _____



しかくのカードを おきます。つぎに 1.2.3.4の じゅんばんで
カードを おいていきます。どんな かたちになりますか。

(1)

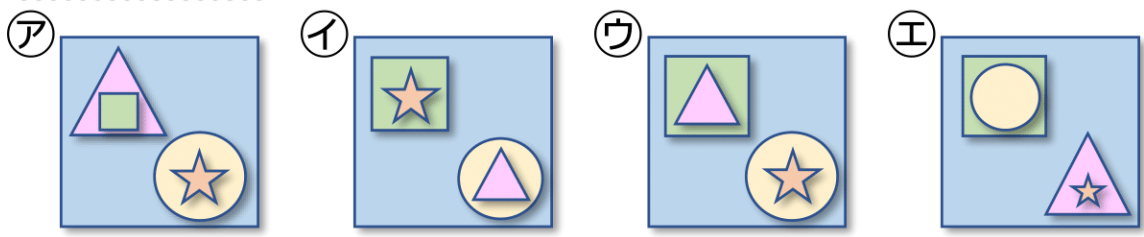
1. まん^{なか}中に まるをおく。
2. 右下に さんかく^{みぎ}をおく。
3. まるの中に しかくをおく。
4. さんかくの中に ほしをおく。



()

(2)

1. 左上に しかく^{ひだりうえ}をおく。
2. 右下に まるをおく。
3. しかくの中に さんかくをおく。
4. まるの中に ほしをおく。



()