


4 **じゅんじ**

月 日



カードのじゅんばん ④

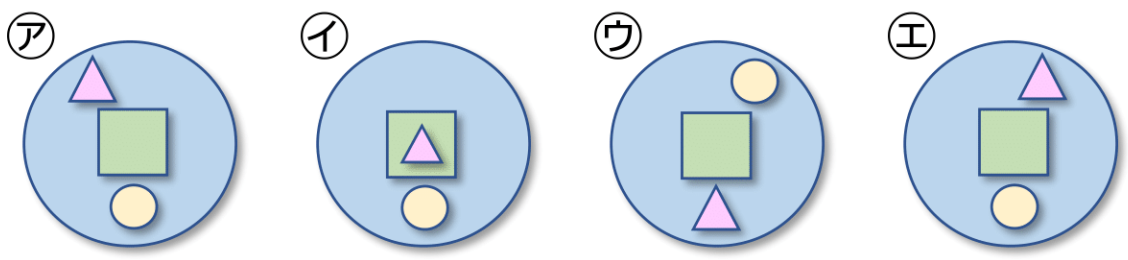
なまえ \_\_\_\_\_



まるのカードをおきます。つぎに 1.2.3の じゅんばんで  
カードをおいていきます。どんな かたちになりますか。

(1)

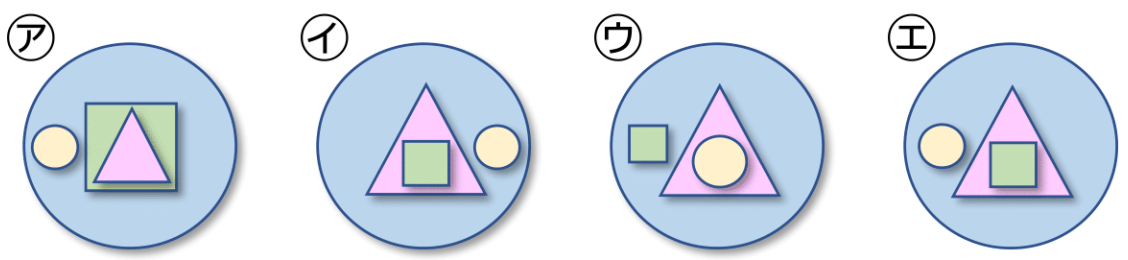
1. まん<sup>なか</sup>中に しかくをおく。
2. 右上に <sup>みぎ</sup>さんかく<sup>うえ</sup>をおく。
3. しかくの下に <sup>した</sup>まるをおく。



[ ]

(2)

1. まん<sup>ひだり</sup>中に さんかくをおく。
2. 左に まるをおく。
3. さんかく中に しかくをおく。



[ ]