




4 **じゅんじ**

月 日



**カードのじゅんばん** ③

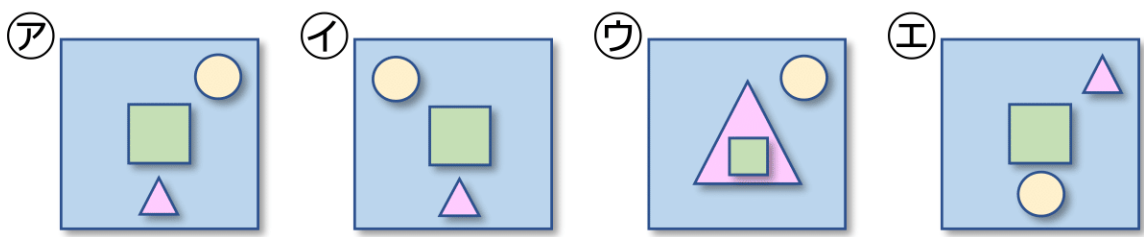
なまえ \_\_\_\_\_



しかくのカードを おきます。つぎに 1.2.3の じゅんばんで  
カードを おいていきます。どんな かたちになりますか。

(1)

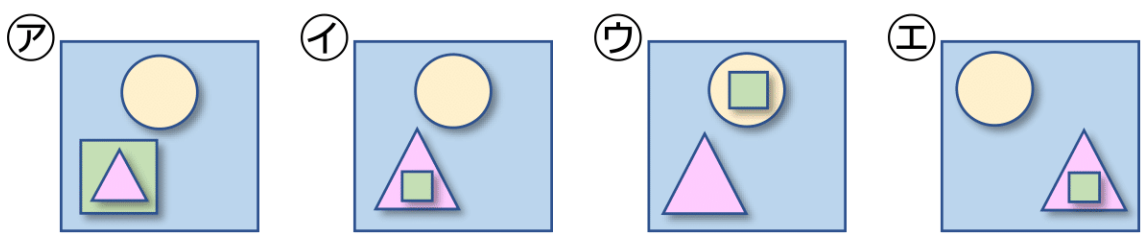
1. まん<sup>なか</sup>中に しかくをおく。
2. 右上に まる<sup>みぎ うえ</sup>をおく。
3. しかくの下に さんかく<sup>した</sup>をおく。



( )

(2)

1. 左下<sup>ひだりした</sup>に さんかくをおく。
2. 上に まる<sup>うえ</sup>をおく。
3. さんかく中に しかくをおく。



( )