




4 **じゅんじ**

月 日



カードのじゅんばん ②

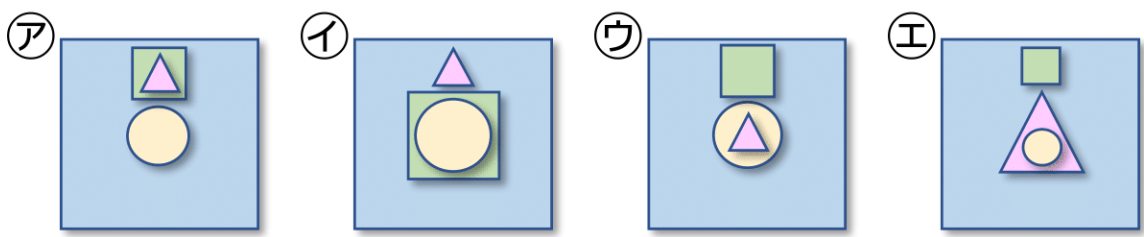
なまえ _____



しかくのカードを おきます。つぎに 1.2.3の じゅんばんで
カードを おいていきます。どんな かたちになりますか。

(1)

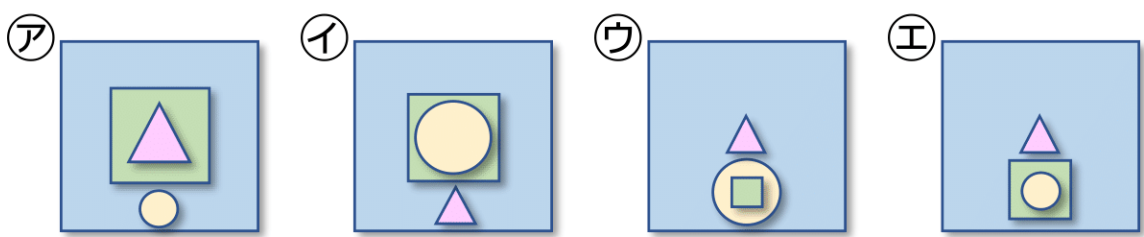
1. まん^{なか}中に まるを おく。
2. 上^{うえ}に しかくを おく。
3. まるの中に さんかくを おく。



[]

(2)

1. まん^{した}中 さんかくを おく。
2. 下に まるを おく。
3. まるの中に しかくを おく。



[]