

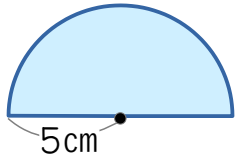


名前 _____

円周率は3.14とします。

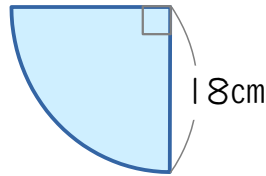
1 次の図形の面積を求めましょう。

(1)



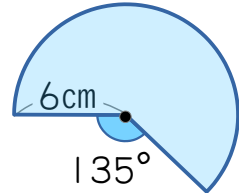
答え _____ cm^2

(2)



答え _____ cm^2

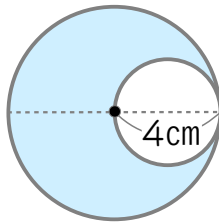
(3)



答え _____ cm^2

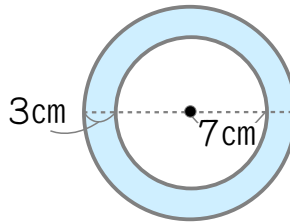
2 色がついた部分の面積を求めましょう。

(1)



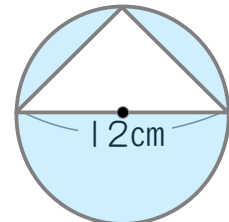
答え _____ cm^2

(2)



答え _____ cm^2

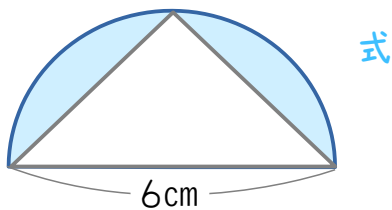
(3)



答え _____ cm^2

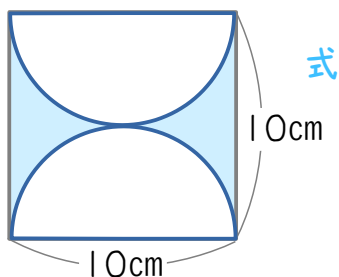
3 色がついた部分の面積を求め、式も書きましょう。

(1)



答え _____ cm^2

(2)



答え _____ cm^2