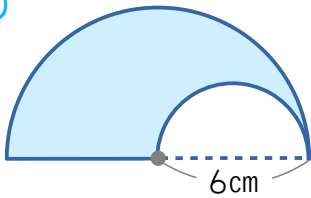




名前 _____

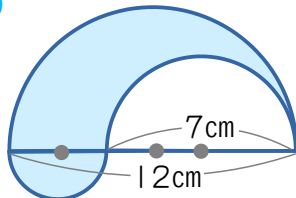
1 次の図形で、色のついた部分の周りの長さを求めましょう。

(1) 式



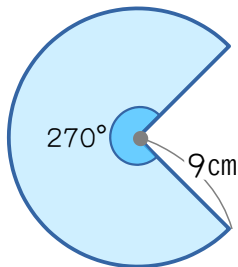
答え _____ cm

(2) 式



答え _____ cm

(3) 式



答え _____ cm

2 半径25cmのタイヤがあります。次の問題に答えましょう。

(1) このタイヤの円周は何cmですか。

答え _____ cm

(2) このタイヤが20回転すると、何m進みますか。

答え _____ m