



名前 _____

1

下の円を使って、正六角形と正八角形を作りましょう。

(1) 正六角形

(2) 正八角形



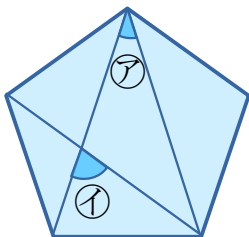
2

正多角形について、下の表の空らんには、あてはまる数を書きましょう。

	辺の数	1つの中心角	内角の和	対角線の数
正三角形				
正方形				
正五角形				
正六角形				
正八角形				

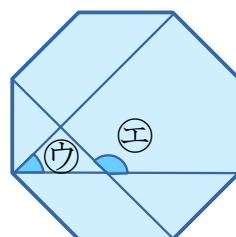
3

次の正多角形の㊦～㊩の角度は何度ですか。



㊦ _____

㊧ _____



㊨ _____

㊩ _____