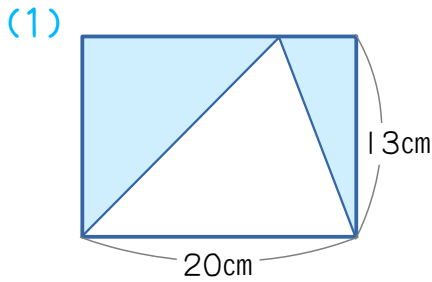


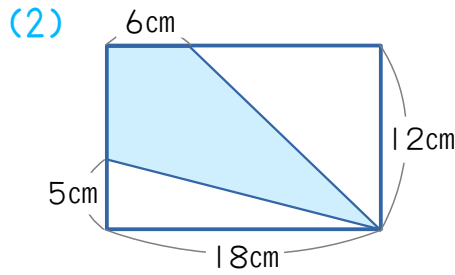


名前 \_\_\_\_\_

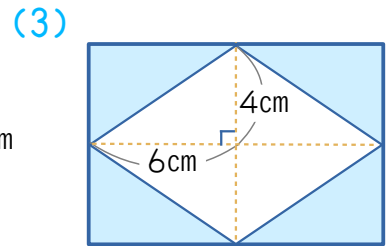
1 次の図で、色がついた部分の面積を求めましょう。



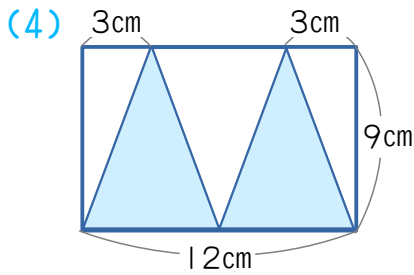
\_\_\_\_\_ cm<sup>2</sup>



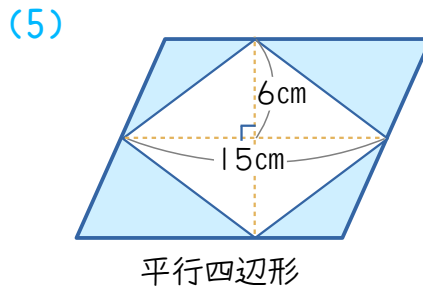
\_\_\_\_\_ cm<sup>2</sup>



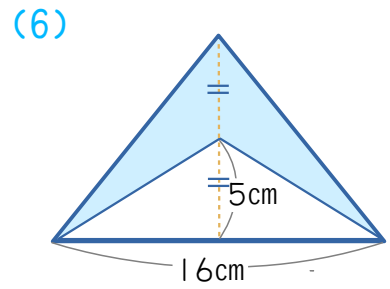
\_\_\_\_\_ cm<sup>2</sup>



\_\_\_\_\_ cm<sup>2</sup>



\_\_\_\_\_ cm<sup>2</sup>



\_\_\_\_\_ cm<sup>2</sup>

2 次の問題に答えましょう。

(1) ㊦の面積が40cm<sup>2</sup>のとき、色がついた面積を求めましょう。

\_\_\_\_\_ cm<sup>2</sup>

(2) ㊩, ㊨=㊧の面積は、何cm<sup>2</sup>ですか。

㊩ \_\_\_\_\_ cm<sup>2</sup>

㊨=㊧ \_\_\_\_\_ cm<sup>2</sup>

