

体積 ③

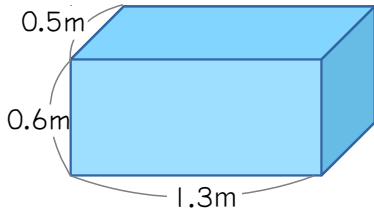
月 日

名前 _____

1

次のような直方体や立方体の体積を求めましょう。

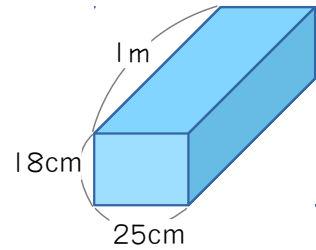
(1)



式 $0.6 \times 1.3 \times 0.5 = 0.39$

答え 0.39 m³

(2)

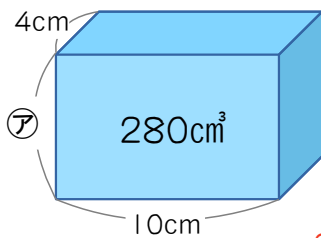


式 $0.18 \times 0.25 \times 1 = 0.045$

答え 0.045 m³

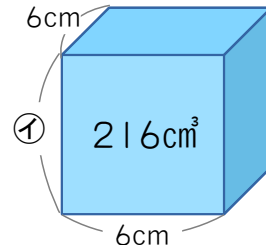
2

次の図の立体アとイの長さを求めましょう。



$280 \div 10 \div 4$

ア 7 cm $280 \div (10 \times 4)$



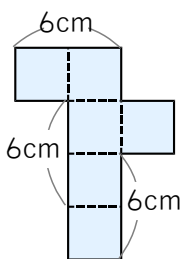
$216 \div 6 \div 6$

イ 6 cm $216 \div (6 \times 6)$

3

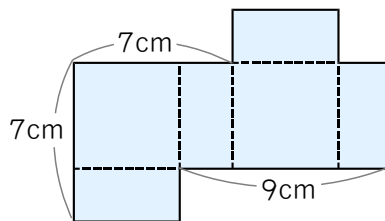
次の図は立体の展開図を表したものです。この立体の体積を求めましょう。

(1)



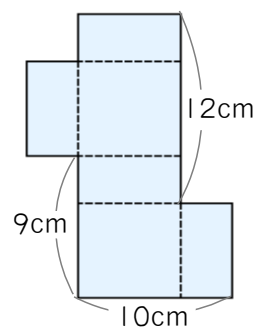
27 cm³

(2)



50 cm³

(3)



126 cm³