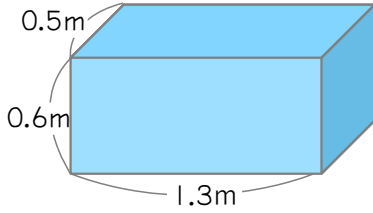


名前 _____

1

次のような直方体や立方体の体積を求めましょう。

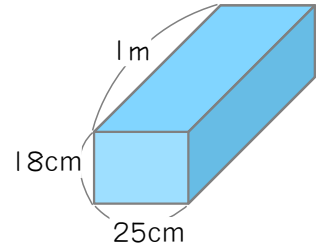
(1)



式

答え _____ m³

(2)

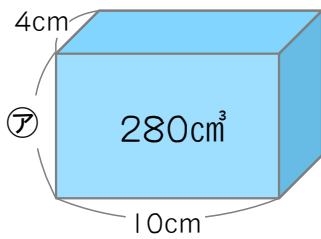


式

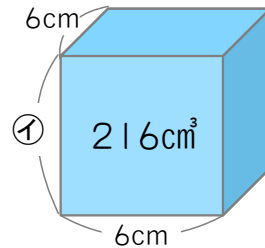
答え _____ m³

2

次の図の立体アとイの長さを求めましょう。



ア _____ cm

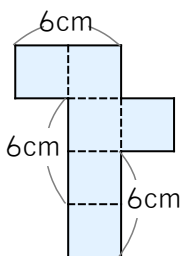


イ _____ cm

3

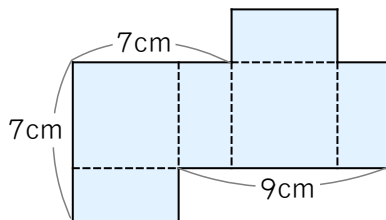
次の図は立体の展開図を表したものです。この立体の体積を求めましょう。

(1)



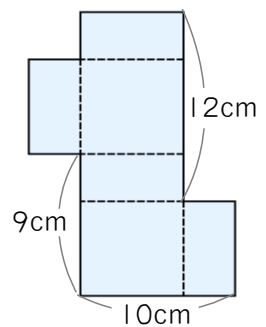
_____ cm³

(2)



_____ cm³

(3)



_____ cm³