

名前 _____

1

直方体や立方体の体積を求める公式を答えましょう。

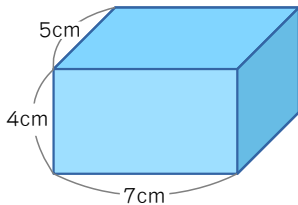
直方体の体積 = × ×

立方体の体積 = × ×

2

次のような直方体や立方体の体積を求めましょう。

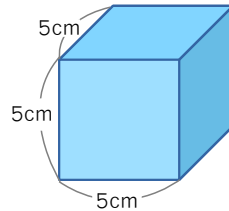
(1)



式

答え _____ cm³

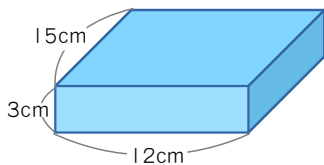
(2)



式

答え _____ cm³

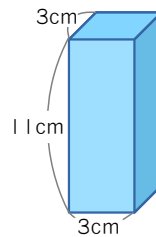
(3)



式

答え _____ cm³

(4)



式

答え _____ cm³

3

右の図は立体の展開図を表したものです。
この立体の体積を求めましょう。

式

答え _____ cm³

