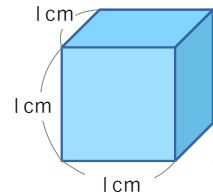


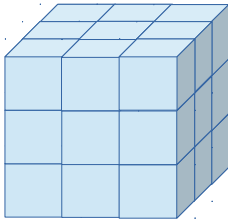
1  の中にあてはまる数やことばを書きましょう。

(1) 1辺が1cmの立方体の体積を  とかき、

とよみます。



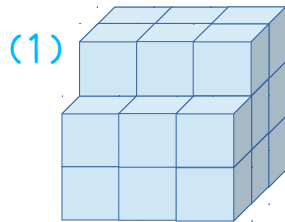
(2) 1辺が1cmの立方体の積み木をならべて、何個か調べました。



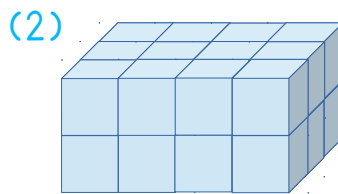
9個が3だんで  個、

体積は  です。

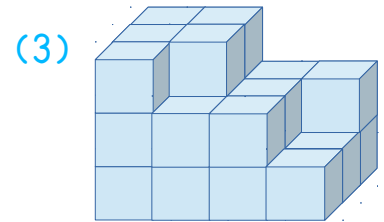
2 1辺が1cmの立方体の積み木を、ならべた体積を求めましょう。



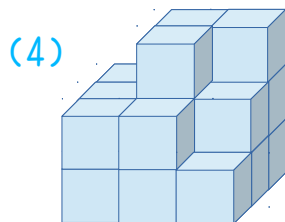
cm<sup>3</sup>



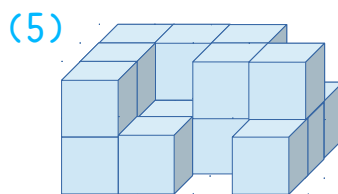
cm<sup>3</sup>



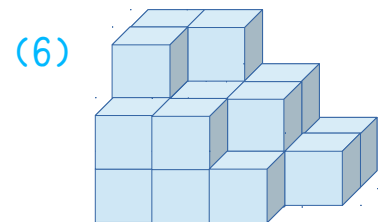
cm<sup>3</sup>



cm<sup>3</sup>



cm<sup>3</sup>



cm<sup>3</sup>