

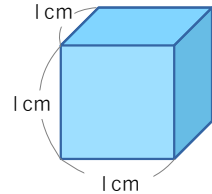


名前 _____

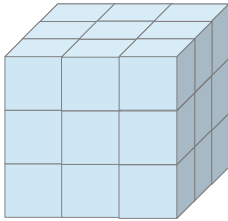
1 の中にあてはまる数やことばを書きましょう。

(1) 1辺が1cmの立方体の体積を とかき、

とよみます。



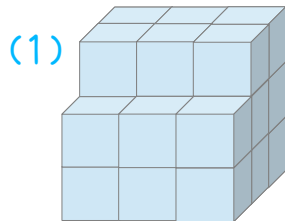
(2) 1辺が1cmの立方体の積み木をならべて、何個か調べました。



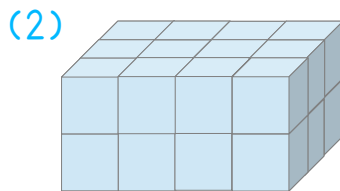
9個が3だんで 個で、

体積は です。

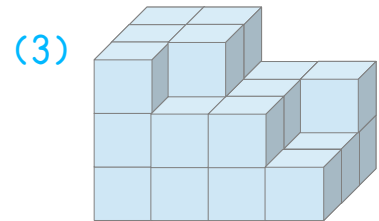
2 1辺が1cmの立方体の積み木を、ならべた体積を求めましょう。



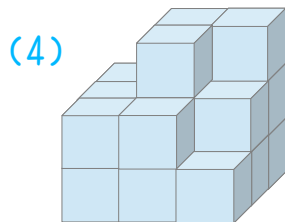
cm^3



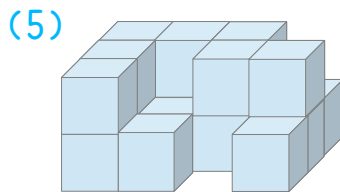
cm^3



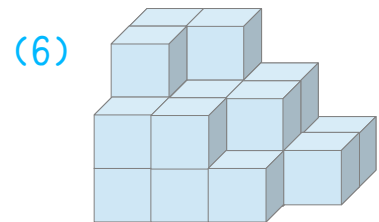
cm^3



cm^3



cm^3



cm^3