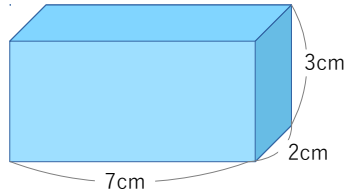


直方体と立方体 ②

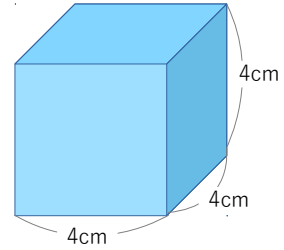
名前 \_\_\_\_\_

1 次の□にあてはまることばや数を書きましょう。

①



②



(1) 立体の名前

直方体

立方体

(2) 面の形

長方形

正方形

(3) 形も大きさも同じ面

3 組

1 組

(4) 長さの等しい辺

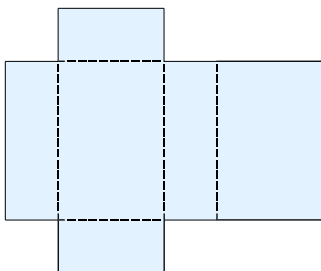
3 組

1 組

(5) 直方体や立方体で、向かい合った面どうしは **平行** です。

また、となりあった面どうしは **すいちよく垂直** です。

2 次の図をみて答えなさい。



直方体や立方体を、辺にそって切り開いて、  
平面の上に広げた図を **てんかいず 展開図** といいます。