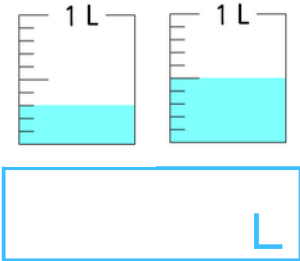


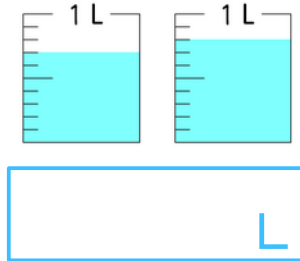
名前 _____

1 水の合わせたかさは、それぞれ何Lありますか。

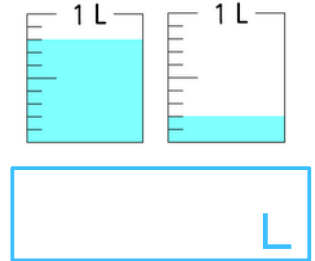
(1)




(2)



(3)



2 下のテープの長さの表し方について、数を書きましょう。



(1) テープの長さは何cm何mmですか。 _____

(2) 1 mmは、1 cmを何等分した長さですか。 _____

(3) テープの長さは何cmですか。 _____

3 □の中にあてはまる数を、書きましょう。

(1) 8 mm = □ cm

(2) 2 mm = □ cm

(3) 12 mm = □ cm

(4) 38 mm = □ cm

(5) 15 cm 9 mm = □ cm

(6) 28 cm 3 mm = □ cm

(7) 3.5 cm = □ cm □ mm

(8) 8.4 cm = □ cm □ mm