


名前 _____

1 水のかさは、それぞれ何Lありますか。

(1)



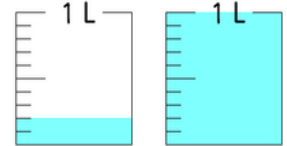
_____ L

(2)



_____ L

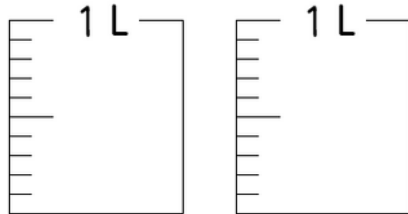
(3)



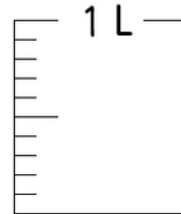
_____ L

2 水のかさだけ、色をぬりましょう。

(1) 1.9L



(2) 0.3L



3 □の中にあてはまる数を、書きましょう。

(1) 0.1Lを5こ集めたかさは、□ Lです。

(2) 1Lと、はしたの0.7Lをあわせたかさは、□ Lです。

(3) 0.3と0.8Lをあわせたかさは、□ Lです。

4 次の数を、整数と小数に分けて、記号で書きましょう。

- ㊦ 0.2 ㊧ 16 ㊨ 2.8 ㊩ 3 ㊪ 10

整数

小数
