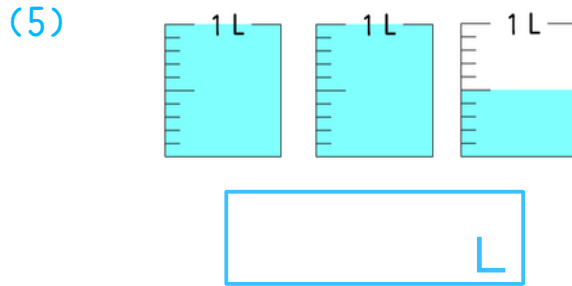
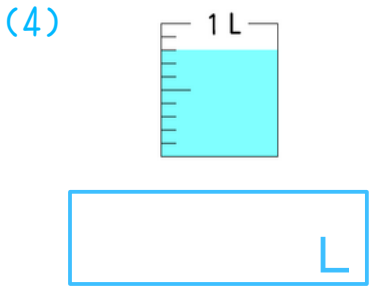
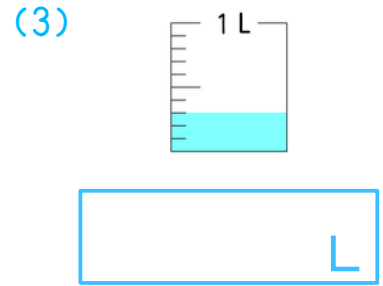
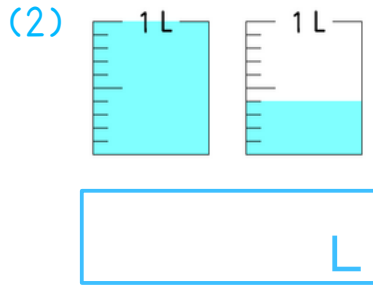
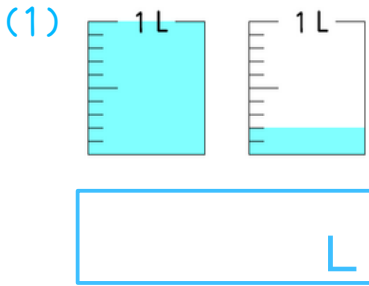


名前 _____

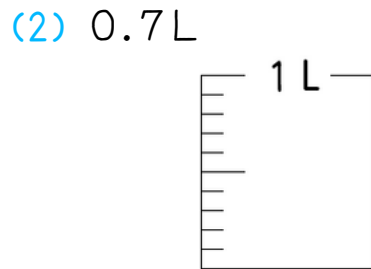
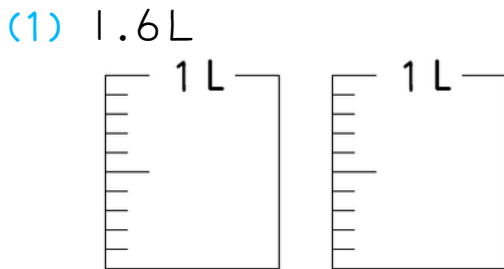
1

水のかさは、それぞれ何Lありますか。



2

水のかさだけ、色をぬりましょう。



3

にあてはまる数を書きましょう。

(1) 2.7は、2と をあわせた数です。

(2) 2.8は、0.1を こ集めた数です。

(3) 0.1を16こ集めた数は です。