

名前 _____

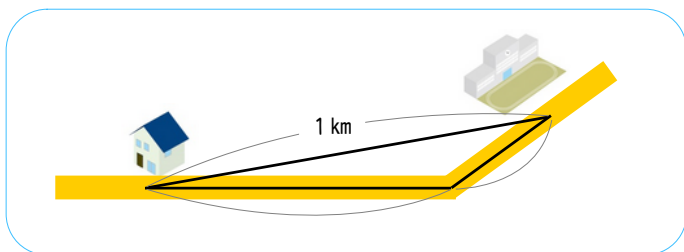
1

にあてはまることばを、□からえらんで答えましょう。

(1) まっすぐにはかったき長さを、 といいます。

(2) 道にそってはかった長さを、 といいます。

(3) 1000mを1km, 1 といいます。

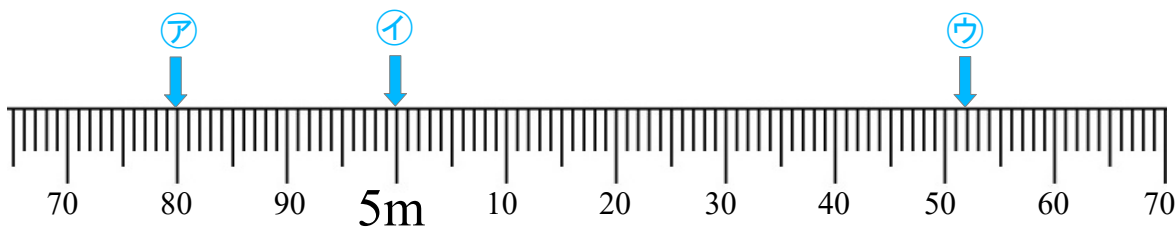


みちのり
きょり
キロメートル

2

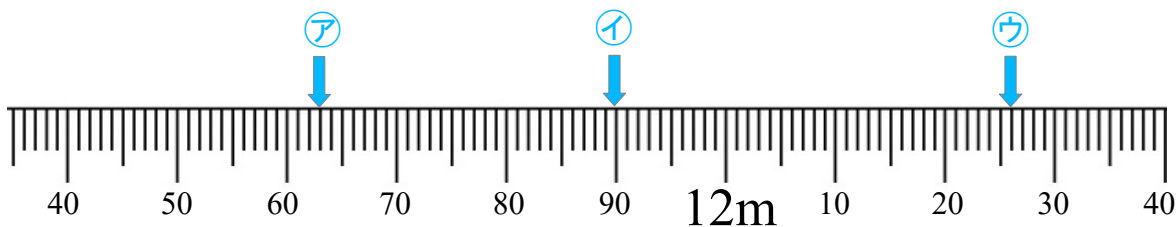
㊦～㊨が表す長さを、こたえましょう。

(1)



㊦ ㊧ ㊨

(2)



㊦ ㊧ ㊨