

はこの形 ③

月 日

名前

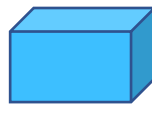
1 下の①, ②, ③のような形のはこをつくるにはそれぞれア~カのどの図でできますか。

①



(ウ)

②



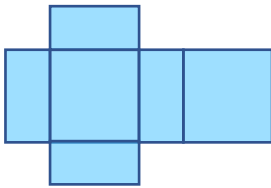
(カ)

③




(オ)

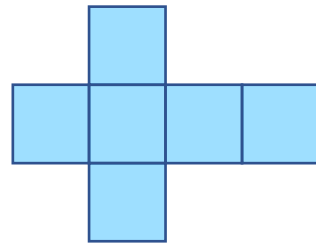
ア



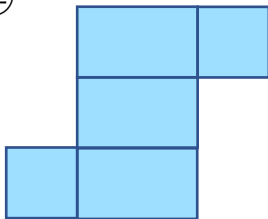
イ



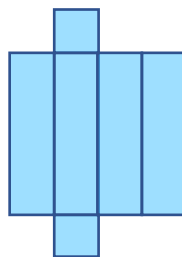
ウ



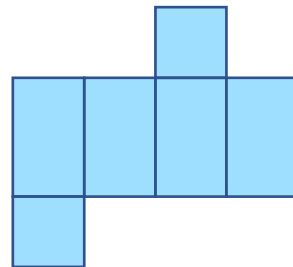
エ



オ

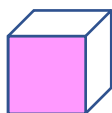


カ

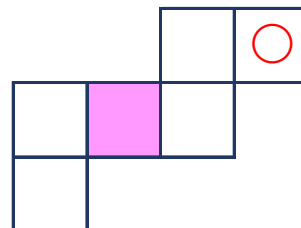


2 下のような形をしたはこがあります。つぎの図はそのはこをひらいた形です。色のついためんむかいはうめんむかいに○のしるしをつけましょう。

はこの図



ひらいた図に○のしるしをつけましょう



わからなかったらこの図ではこを作ろう!